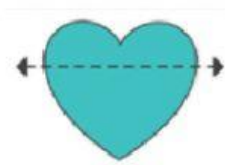



نشاط لدرس محور التماثل

(١) اختر الأشكال المتماثلة :



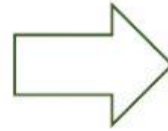
(٢) كم محور تماثل للأشكال التالية :



.....



.....



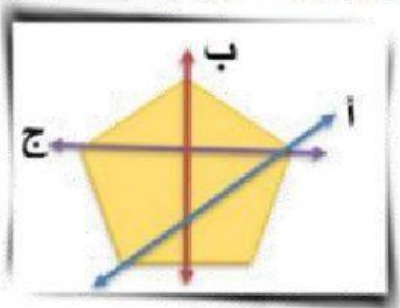
.....



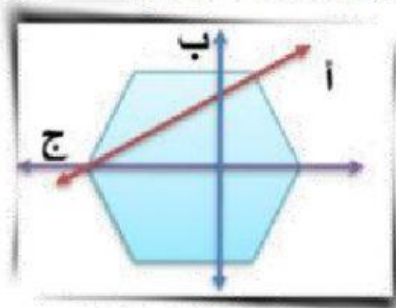
.....

(٣) أكمل بكتابة رمز خط التماثل :

رمز خط التماثل:



رمز خط التماثل:



رمز خط التماثل:

