



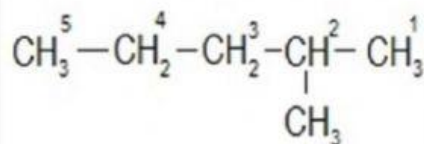
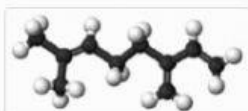
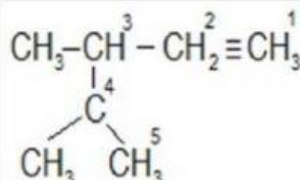
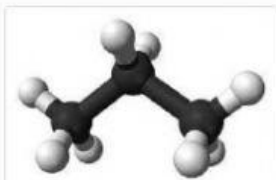
## Unidad Educativa Particular "SADOWIŃSKI SCHOOL"

### TAREA SEMANA DEL 17 AL 28 DE MAYO DE 2021

CONTESTE LAS SIGUIENTES PREGUNTAS ACERCA DE LOS CONTENIDOS VISTOS.

¿Cuáles de los siguientes compuestos son insaturados?

Selecciona una o más de las siguientes respuestas posibles:



¿Cuál de los siguientes enlaces hace que un compuesto sea mas estable?

Selecciona una de las siguientes respuestas posibles:

Triple.

Sencillo.

Doble.

Que tipos de hidrocarburos alifáticos tienen una longitud de enlace C-H igual.

Selecciona una de las siguientes respuestas posibles:

Alcanos y Alquinos.

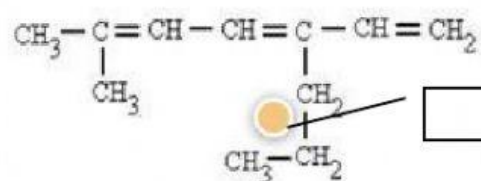
Alcanos y Alquenos.

Alquenos y Alquinos.

Selecciona la opción correcta del menú desplegable para completar el texto.

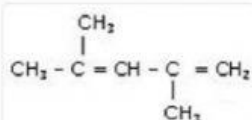
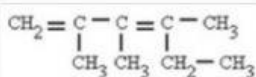
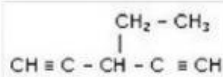
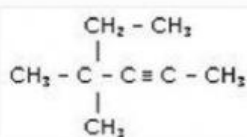
El carbono debe formar  enlaces.

¿Cómo se llama se el sustituyente señalado?



Seleccione el que representa el compuesto: 3-etil, 1,4-pentadieno

Selecciona una de las siguientes respuestas posibles:



¿Cuales de los siguientes hidrocarburos son de tipo alifático?

Selecciona una o más de las siguientes respuestas posibles:

