



ESCOLA ESTADUAL DE ENSINO MÉDIO PROFª CELIA FLORES LAVRA PINTO

Rua Adolfo Bitencourt, 225. Lomba da Tarumã - Viamão - RS

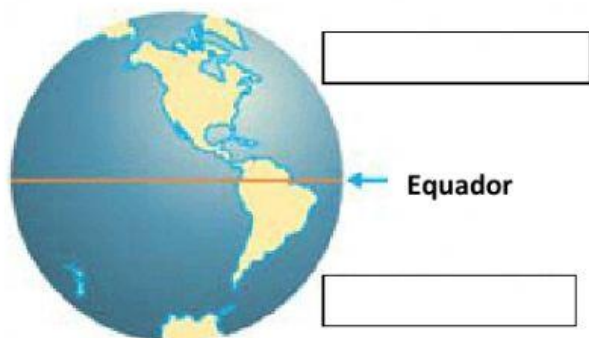
Atividade de Geografia 6º Ano

Nome:

Turma:

Profª: Eunice Serpa Azambuja

1- Escreva nos quadrinhos os nomes dos Hemisférios



2- Para classificar os planetas do Sistema Solar complete os quadrinhos com **R** (se o planeta for rochoso) ou **G** (se o planeta for gasoso).



Júpiter



Vênus



Mercúrio



Terra



Saturno



Mercúrio




Urano



Netuno

3- Escreva os nomes das estações do ano.



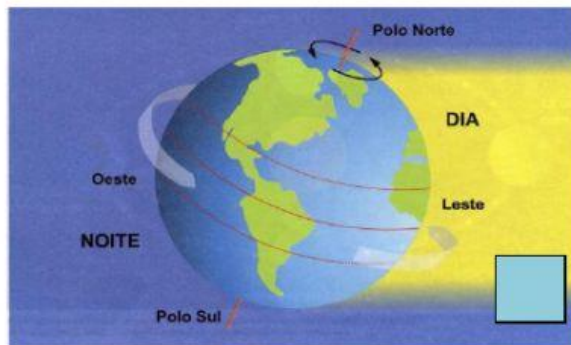
4- Ligue as imagens aos nomes dos movimentos da Terra



ROTAÇÃO

REVOLUÇÃO

TRANSLAÇÃO



5- Assinale com X a resposta certa.

5.1 - Os Solstícios estão relacionados...

☐

À primavera e ao Outono.

☐

Ao inverno e ao verão.

5.2 - Os Equinócios estão relacionados....

☐

À primavera e ao Outono.

☐

Ao inverno e ao verão.

5.3- Assinale a alternativa que identifica a imagem a seguir:

☐

Astrolábio

☐

Relógio

☐

Cronômetro

☐

Bússola

Profª Eunice Serpa Azambuja

