

EL SISTEMA SOLAR


Completa la siguiente oración

El movimiento de rotación de la Tierra consiste en _____,
este giro provoca el _____ y tarda en darlo _____.


Arrastra cada palabra donde corresponda.

Día


Noche




Lleva cada momento del día con su imagen correspondiente



Mediodía



Atardecer



Amanecer

Elige en la siguiente tabla dos ejemplos para cada columna.

Cosas que hago durante el día	Cosas que hago durante la noche