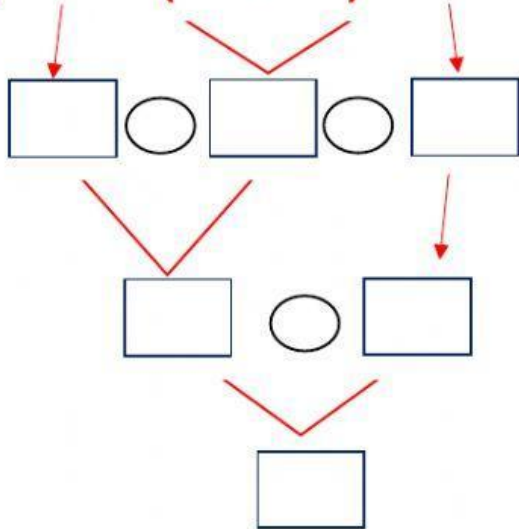


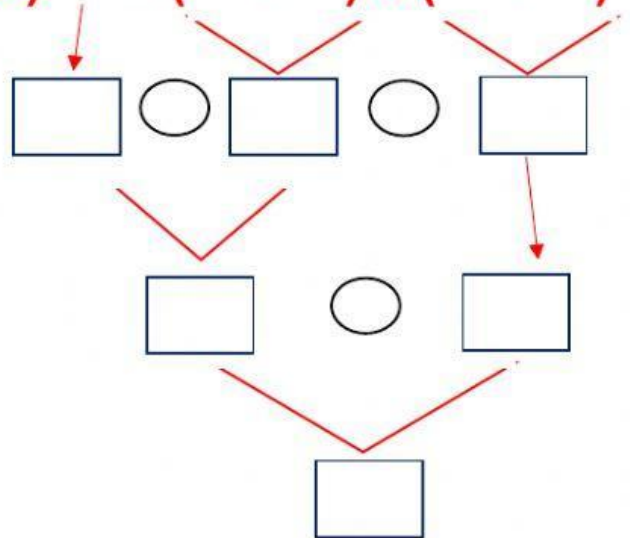
REFORZAMOS OPERACIONES COMBINADAS

Resuelve las siguientes operaciones combinadas. En los rectángulos escribe los números y en los círculos escribe los signos.

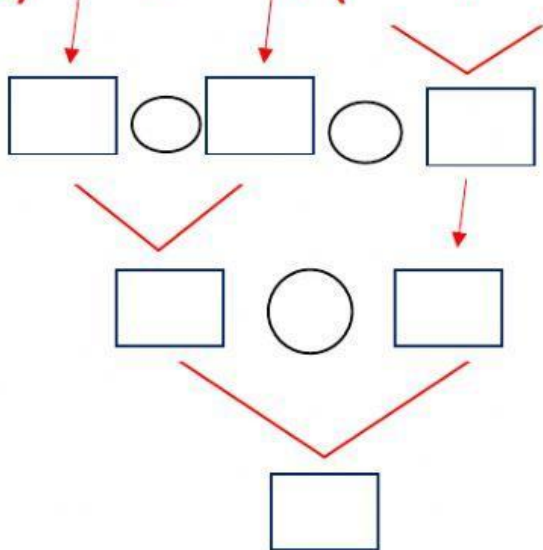
a) $120 - (20 + 40) - 9$



b) $78 - (29 - 15) + (85 - 10)$



c) $800 - 250 + (226 + 130)$



d) $370 - 230 + 170 - 100$

