




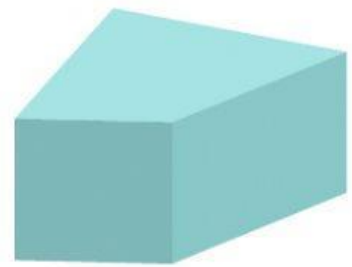

Nome

Data

Figuras planas e não planas

Isabella precisa de ajuda para organizar figuras geométricas PLANAS e figuras geométricas NÃO PLANAS. Você pode ajudá-la?

Faça um X apenas nas figuras geométricas NÃO PLANAS.



Escreva o nome das figuras geométricas não planas.

