




Nome: _____

Data: _____

Oficina de Matemática - Year 2


1) Qual é a probabilidade de tirar uma bolinha rosa?

- Provável
- Improvável
- Certo
- Impossível
- Igual probabilidade



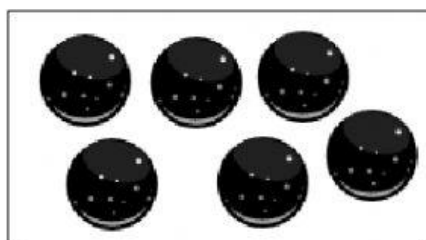
2) Qual é a probabilidade de tirar uma bolinha preta?

- Provável
- Improvável
- Certo
- Impossível
- Igual probabilidade



3) Qual é a probabilidade de tirar uma bolinha rosa?

- Provável
- Improvável
- Certo
- Impossível
- Igual probabilidade



4) Qual é a probabilidade de tirar uma bolinha preta?

- Provável
- Improvável
- Certo
- Impossível
- Igual probabilidade

