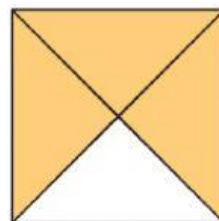
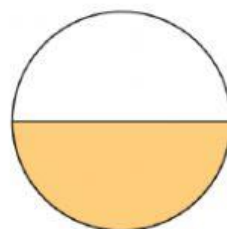


Przyjrzyj się narysowanym figurom i odpowiedz na pytania.

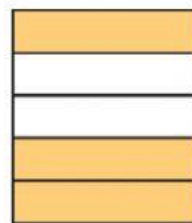
- a) Czy części są równe? tak
Ile jest wszystkich części? 4
Ile części zamalowano? 3
Jaką część figury zamalowano? $\frac{3}{4}$



- b) Czy części są równe? _____
Ile jest wszystkich części? _____
Ile części zamalowano? _____
Jaką część figury zamalowano? _____



- c) Czy części są równe? _____
Ile jest wszystkich części? _____
Ile części zamalowano? _____
Jaką część figury zamalowano? _____



Odczytaj ułamki i zapisz je słowami.

$\frac{3}{4}$ trzy czwarte

$\frac{4}{5}$ _____

$\frac{1}{2}$ _____

$\frac{3}{7}$ _____

Odczytaj i zapisz ułamki cyframi.

dwie piąte _____

siedem ósmych _____

jedna trzecia _____

cztery siódme _____