

# "Demuestro lo aprendido"

1. Cuenta y completa las siguientes operaciones.

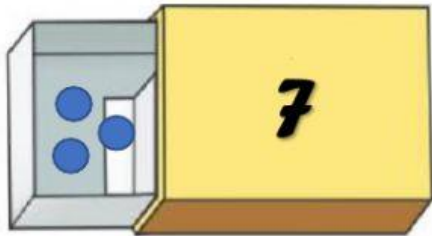


$$\square + \square = \square$$

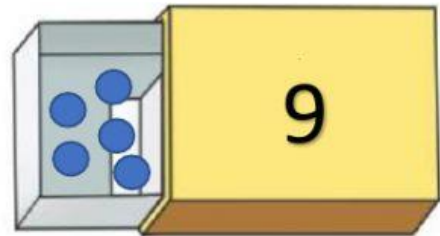


$$\square + \square = \square$$

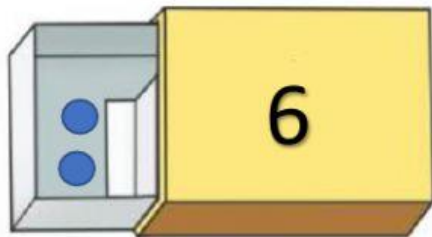
2. ¿Cuánto falta?



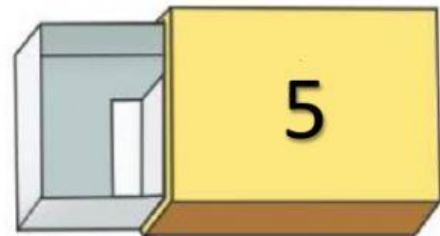
$$\square + \square$$



$$\square + \square$$



$$\square + \square$$



$$\square + \square$$