

المستوى : س5

نشاط في الإيقاظ العلمي  
المحتوى : السلسلة الغذائية

إعداد : سنية مراد وحنان سحيق

م.إ. أسد بن الفرات  
منزل عبد الرحمن  
بنزلوه - تونس

التعليمة 1: أنظّم الصور حسب العلاقة .



غذاء لـ




التعليمة 2: أنظّم الالفاظ حسب العلاقة المذكورة

الأعشاب

الفيل



يتغذى على



الأسد

الحمار الوحشي




التعليمة 3: أشاهد المقطع التالي ثم أنظّم الالفاظ حسب العلاقة الغذائية المذكورة .



الغزال

النباتات

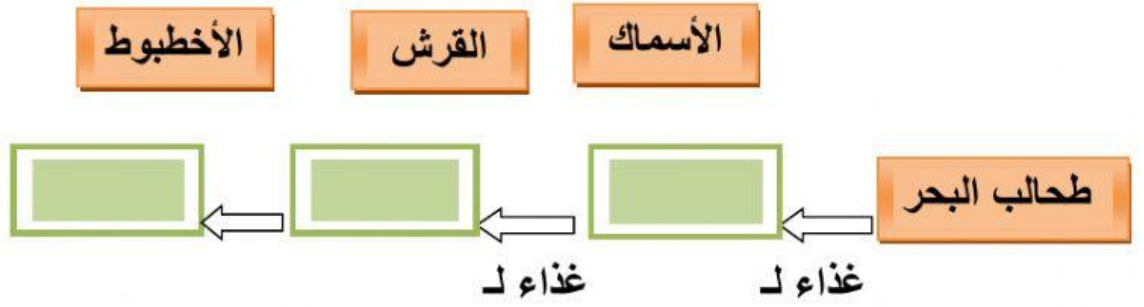
الإنسان



يتغذى على

يتغذى على

التعليمة 4: أكّون باللافتات سلسلة غذائية حسب العلاقة الغذائية المذكورة (غذاء لـ).



التعليمة 5: أتأمل السلسلة الغذائية التالية ثم أصل بخط.



- ◆ الغزالة
- ◆ الأسد
- ◆ العشب
- ◆ المنتج للغذاء
- ◆ مستهلك من الدرجة الثانية
- ◆ مستهلك من الدرجة الأولى

التعليمة 6: ماذا يحدث عند الإفراط في صيد الغزال؟

.....

.....

التعليمة 7: أصلح الخطأ بإعادة ترتيب صور الحيوانات التالية حسب العلاقة الغذائية

