

NOME:

DATA::





Análise de Gráfico

A TURMA DE DOUGLAS TAMBÉM FEZ UMA VOTAÇÃO SOBRE AS SELEÇÕES PREFERIDAS E REGISTROU O RESULTADO EM UM GRÁFICO DE COLUNAS. OBSERVE:



FONTE: TURMA DE DOUGLAS

ORGANIZE OS DADOS DO GRÁFICO NA TABELA ABAIXO:

| SELEÇÃO | VOTOS |
|---|-------|
|  ARGENTINA | |
|  BRASIL | |
|  ESPANHA | |
|  JAPÃO | |

FONTE: TURMA DO DOUGLAS

RESPONDA ÀS QUESTÕES:

- A.** QUAL FOI A SELEÇÃO MAIS VOTADA? _____
- B.** QUANTOS VOTOS RECEBEU A SELEÇÃO DA ARGENTINA? _____
- C.** HOVE DUAS SELEÇÕES COM A MESMA QUANTIDADE DE VOTOS. QUAIS FORAM ELAS? _____