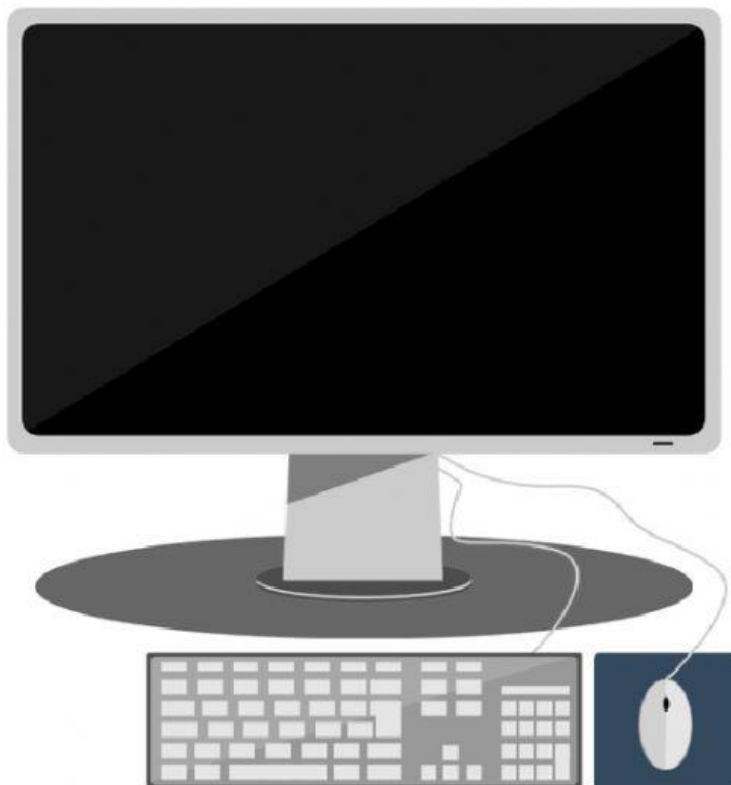


NOME: _____

PROFESSORA: _____ DATA: _____

ASSISTA O VÍDEO PARA REALIZAR AS ATIVIDADES PROPOSTAS:



ORDENE OS OBJETOS DE ACORDO COM O PEDIDO:





ORDENE AS MOEDAS EM ORDEM CRESCENTE DE VALOR DO MENOR PARA O MAIOR):



--	--	--	--	--



CLASSIFIQUE OS ANIMAIS EM ORDEM DECRESCENTE (DO MAIOR PARA O MENOR):



ORDENE OS NUMERAIS EM ORDEM DECRESCENTE (DO MAIOR PARA O MENOR):

3

8

2

6

10

7

4

1

5

9



ORDENE OS NUMERAIS EM ORDEM CRESCENTE (DO MENOR PARA O MAIOR):

3

8

2

6

10

7

4

1

5

9