


# QUANTI RESTANO?


♣ Rispondi ed esegui l'operazione.



Quanti uccelli in tutto? ☐  
 Quanti uccelli scappano? ☐  
 Quanti uccelli RESTANO? ☐

5 MENO 2 UGUALE 3

$$5 - 2 = \square$$



Quanti gomitoli in tutto? ☐  
 Quanti gomitoli sono caduti a terra? ☐  
 Quanti gomitoli RESTANO nel cesto? ☐

6 MENO 2 UGUALE 4

$$6 - 2 = \square$$

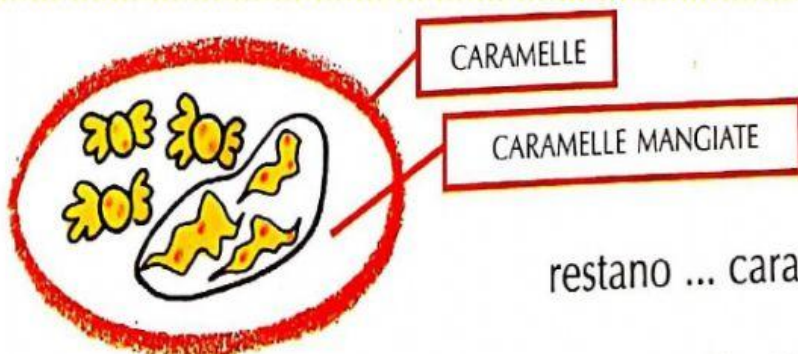


Quanti succhi di frutta in tutto? ☐  
 Quanti succhi sono stati bevuti? ☐  
 Quanti succhi RESTANO? ☐

4 MENO 1 UGUALE 3

$$4 - 1 = \square$$

♣ Completa ed esegui l'operazione.

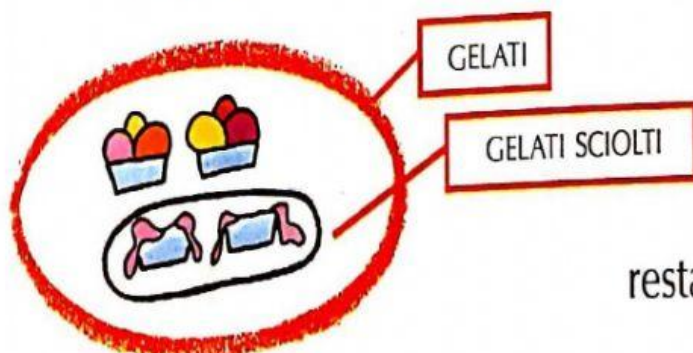


CARAMELLE

CARAMELLE MANGIATE

restano ... caramelle

$$\dots - \dots = \dots$$



GELATI

GELATI SCIOLTI

restano ... gelati

$$\dots - \dots = \dots$$