




NOME: \_\_\_\_\_

PROFESSORA: \_\_\_\_\_

DATA: \_\_\_\_\_



O PAI DE BETO TEM UM PETSHOP. BETO AJUDOU SEU PAI A FAZER O CÁLCULO DE VENDAS DE ANIMAIS DA SEMANA . ELES COLOCARAM OS NÚMEROS NA TABELA ABAIXO. OBSERVE E LEIA A TABELA.

			
SEXTA	7	4	3
SÁBADO	5	2	6
DOMINGO	3	5	4

RESPOSTA:



QUANTOS GATOS FORAM VENDIDOS?



QUANTOS CACHORROS FORAM VENDIDOS?



QUANTOS PEIXES FORAM VENDIDOS?



EM QUE DIA FORAM VENDIDOS MAIS ANIMAIS?



QUAL FOI O ANIMAL MAIS VENDIDO?