



PEMERINTAH KABUPATEN KEDIRI  
DINAS PENDIDIKAN  
**SD NEGERI JERUKWANGI**

Jl. Jombang No.319 Ds. Jerukwangi Kec. Kandangan

Email : sdnjerukwangi@yahoo.com

NSS : 10 10 51 30 90 05

NPSN : 20512636

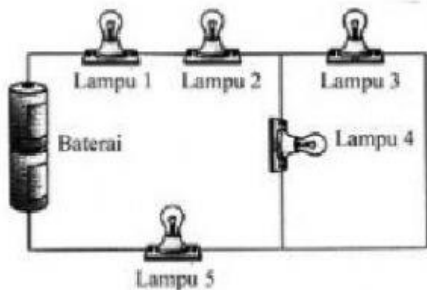
**SOAL EVALUASI PEMBELAJARAN-3**  
**TAHUN PELAJARAN 2020 / 2021**

Tema : 3. Tokoh dan Penemuan  
Subtema : 3. Ayo Menjadi Penemu

Hari/Tanggal : .....  
Nama : .....

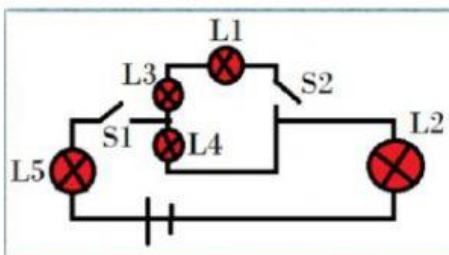
**1. Berilah tanda silang (x) pada jawaban yang tepat !**

1. Perhatikan gambar rangkaian listrik dibawah, Jika lampu 4 dilepas, maka .....



- A. lampu 1 dan 2, padam
- B. lampu 2 dan 3, padam
- C. lampu 1, 2, 3 dan 5 menyala
- D. hanya lampu 3 dan 5 yang menyala

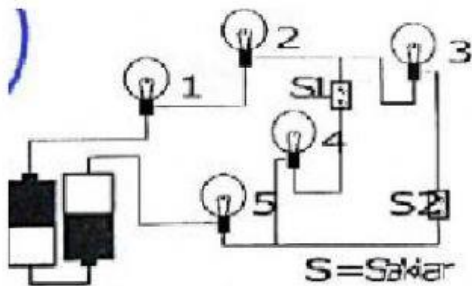
2. Perhatikan rangkaian listrik berikut!



Bagaimana posisi sakelar agar hanya lampu 2,4 dan 5 yang menyala?

- A. S1 dibuka sedangkan S2 ditutup
- B. S1 ditutup sedangkan S2 dibuka
- C. S1 dan S2 ditutup
- D. S1 dan S2 dibuka

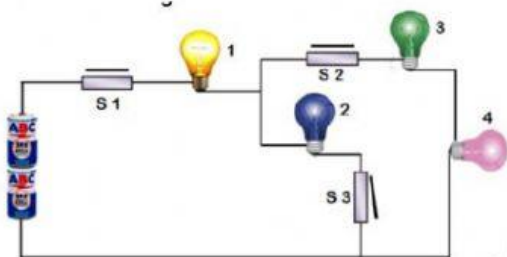
3. Perhatikan rangkaian listrik berikut!



Pernyataan yang benar jika saklar 1 dibuka adalah ....

- A. Lampu 1 dan 2 padam, yang lainnya menyala
- B. Lampu 3 dan 4 padam, yang lainnya menyala
- C. Lampu 4 dan 5 padam, yang lainnya menyala
- D. Lampu 4 padam yang lainnya menyala

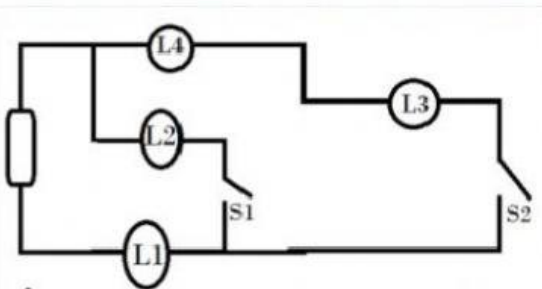
4. Perhatikan rangkaian listrik berikut!



Jika saklar 3 (S3) dibuka, maka lampu yang tetap menyala adalah .....

- A. 1, 2, dan 3
- B. 1, 3, dan 4
- C. 1, 2, dan 4
- D. 2, 3 dan 4

5. Perhatikan rangkaian listrik berikut!



Sakelar manakah yang harus ditutup agar lampu 1 dan 2 menyala, sedangkan lampu lain tetap padam?

- A. S1
- B. S2
- C. S1 dan S2
- D. Semua sakelar terbuka

6. Contoh hak dalam memanfaatkan sumber energi adalah . . . .
- A. Mematikan keran setelah selesai mandi
  - B. Mematikan televisi jika tidak digunakan
  - C. Menggunakan air bersih ketika mandi
  - D. Menghabiskan makanan yang tersedia
7. Berikut perilaku yang menunjukkan kewajiban menggunakan energi dengan baik di sekolah adalah . . .
- A. Dio mematikan kipas angin setelah selesai jam pelajaran
  - B. Lampu dalam ruangan dibiarkan menyala agar tidak perlu menyalakan kembali saat akan digunakan
  - C. Roni tidak mau membantu Anto membersihkan kelas karena menghemat energi dalam tubuhnya
  - D. Mira membiarkan keran bak mandi di sekolah mengalir meskipun bak sudah penuh
8. Berikut perilaku yang bertentangan dengan sila kelima Pancasila adalah . . . .
- A. Menggunakan air sesuai dengan kebutuhan
  - B. Menyalakan kipas meskipun tidak digunakan
  - C. Menggunakan biogas sebagai energi alternatif
  - D. Menggunakan sepeda jika bepergian jarak dekat
9. Bentuk pengingkaran kewajiban yang dapat dilakukan warga negara adalah ....
- A. membantu menyediakan fasilitas pendidikan bagi anak jalanan
  - B. membantu menyediakan fasilitas pendidikan bagi anak jalanan
  - C. membuang sampah di sembarang tempat
  - D. menyediakan fasilitas pendidikan yang kurang memadai
10. Kasus pelanggaran dan pengingkaran kewajiban dalam kehidupan sehari - hari dapat dicegah apabila ....
- A. masyarakat mengetahui hak dan kewajiban pemerintah
  - B. warga negara mendapatkan haknya secara bebas dari negara
  - C. pemerintah peka terhadap keinginan warga negara
  - D. warga negara Indonesia melaksanakan hak dan kewajibannya