

LEMBAR KERJA PESERTA DIDIK (LKPD)

Satuan Pendidikan : SDN 3 Babakanlosari
Mata Pelajaran : Matematika
Kelas / Semester : IV / Genap
Materi Pokok : Segi Banyak Beraturan dan Tidak Beraturan



A. Pilihlah jawaban yang paling benar

1.



Yang bukan merupakan bangun segi banyak adalah....

- A. 1 dan 3 B. 2 dan 4 C. 3 dan 4 D. 2 dan 3

2. 1). Sisinya Sama Panjang
2). Sudutnya Tidak Sama Besar
3). Bentuknya Cembung
4). Sisinya Tidak Sama Panjang

Yang merupakan ciri segi banyak beraturan adalah

- A. 1 dan 2 B. 2 dan 3 C. 3 dan 4 D. 1 dan 3

3. Yang merupakan ciri segi banyak tidak beraturan adalah

- A. Sisinya sama panjang C. Sudutnya sama besar
B. Bentuknya cembung D. Sisinya tidak sama panjang

4. Segi banyak yang memiliki 5 sisi adalah

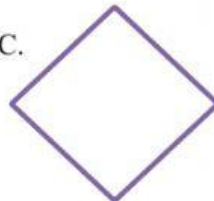
A.




B.



C.




D.



5. Segi banyak berikut disebut

- A. Pentagon
B. Heksagon
C. Oktagon
D. Dekagon



B. Tentukanlah bangun di bawah ini termasuk kedalam segi banyak beraturan atau tidak beraturan !

1.



2.



3.



4.



5.

