






ANA COMPROU FLORES PARA SUA MAMÃE, AGORA VAI DISTRIBUIR NOS VASOS. OBSERVE A QUANTIDADE DE FLORES E LIGUE AO VASO .



PARA COMPLETAR 15 FLORES EM CADA VASO INDIQUE A QUANTIDADE QUE FALTA COM AS OPÇÕES DA ETIQUETA.



VAMOS DESCOBRIR O TOTAL DE FLORES QUE ANA COMPROU? PARA AJUDAR ANA SEPAROU EM DOIS GRUPOS.

DEZENAS	UNIDADES
	
	
	
$10 + 10 + 10 =$ <input type="text"/>	$1+2+3=$ <input type="text"/>

SELECIONE O CÁLCULO QUE FEZ E DEPOIS O TOTAL DE FLORES QUE ANA COMPROU.