

Nama

:

Kelas

:

Hari/ Tanggal

:

Mata Pelajaran

:

Kamis, 6 Mei 2021

Tema 7 Subtema 1 & 2

## ULANGAN HARIAN TEMA 7 SUBTEMA 1 DAN 2

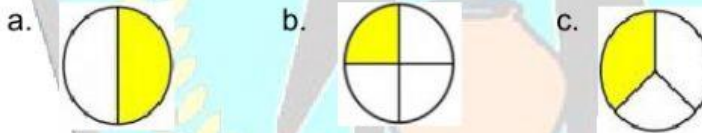
SDN JUNREJO 02

KOTA BATU – JAWA TIMUR

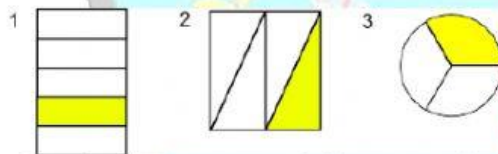
Pilihlah huruf a, b, atau c pada jawaban yang paling benar!

1. Sikap menerima keragaman adalah dengan cara ...
  - a. Mengejek
  - b. Menghina
  - c. Menghormati
2. Perbedaan agama tidak akan menjadi masalah ketika ...
  - a. Saling menghargai
  - b. Menjelekkan agama lain
  - c. Menyinggung agama lain
3. Edo dan Beni adalah anak yang berjenis kelamin ...
  - a. Perempuan
  - b. Laki-laki
  - c. Wanita
4. Piket kelas dilaksanakan dengan penuh ...
  - a. Tanggung jawab
  - b. Kemalasan
  - c. Iri dengki
5. Siti dan Ayu adalah anak yang berjenis kelamin ...
  - a. Laki-laki
  - b. Pria
  - c. Perempuan
6. Dongeng berisi tentang ...
  - a. Sejarah
  - b. Kisah nyata
  - c. Cerita khayalan

7. Dongeng fabel menceritakan tentang ...
- Tumbuhan
  - Hewan
  - Manusia
8. Peristiwa dalam dongeng disebut ...
- Alur
  - Tokoh
  - Amanat
9. "Hai, Ayam Jantan! Aku melihat Elang terbang rendah".  
Kalimat tersebut termasuk kalimat ...
- Perintah
  - Ajakan
  - Sapaan
10. Tinggi rendahnya nada dalam membaca dongeng disebut ...
- Lafal
  - Intonasi
  - Ekspresi
11. Pecahan  $\frac{1}{4}$  ditunjukkan pada gambar ...




12. Perhatikan gambar berikut ini!



Gambar yang menunjukkan pecahan  $\frac{1}{3}$  ditunjukkan pada gambar ...

- 1
  - 2
  - 3
13. Satu pertiga sama artinya dengan ...
- Setengah
  - Sepertiga
  - Seperempat

14. Perhatikan gambar berikut!



Pecahan yang terbentuk dari gambar tersebut adalah ...

a.  $\frac{1}{2}$

b.  $\frac{1}{3}$

c.  $\frac{1}{4}$

15. Setengah sama artinya dengan ...

- a. Satu perempat
- b. Satu pertiga
- c. Satu perdua

16. Panjang pendeknya bunyi dapat dihitung berdasarkan ...

- a. Ketukan
- b. Nada
- c. Irama

17. Pola irama berjalan menurut ...

- a. Tangga nada
- b. Birama
- c. Dinamika

18. Tari kijang merupakan kegiatan yang menggerakkan ...

- a. Tangan
- b. Kaki
- c. Anggota tubuh

19. Gerakan menggeleng merupakan salah satu gerakan ...

- a. Kepala
- b. Kaki
- c. Tangan

20. Anggota tubuh yang digunakan untuk menirukan kelinci melompat adalah ...

- a. Tangan
- b. Kaki
- c. Kepala

