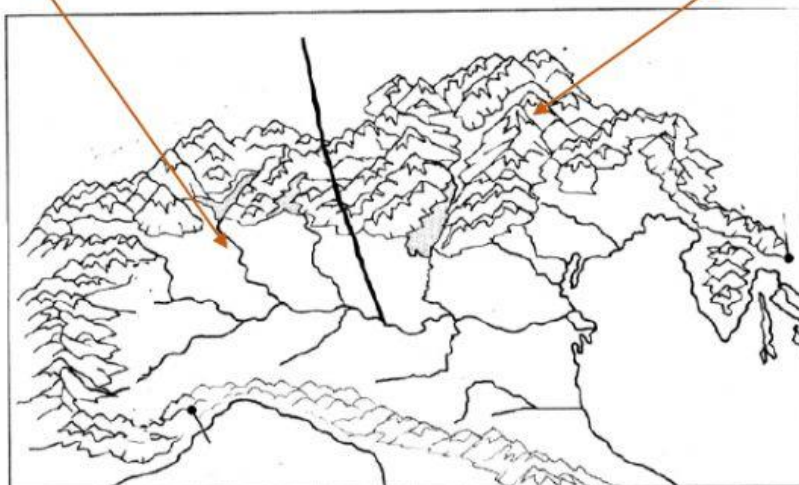
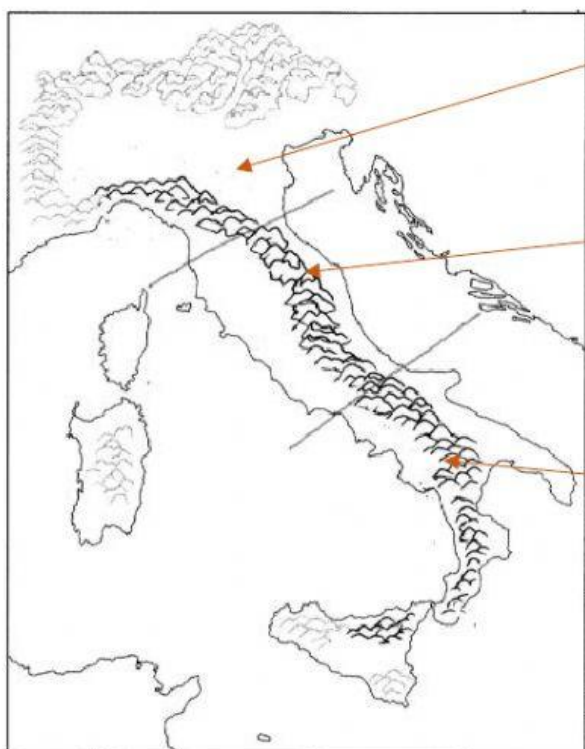


MONTAGNE E COLLINE

I RILIEVI MONTANI

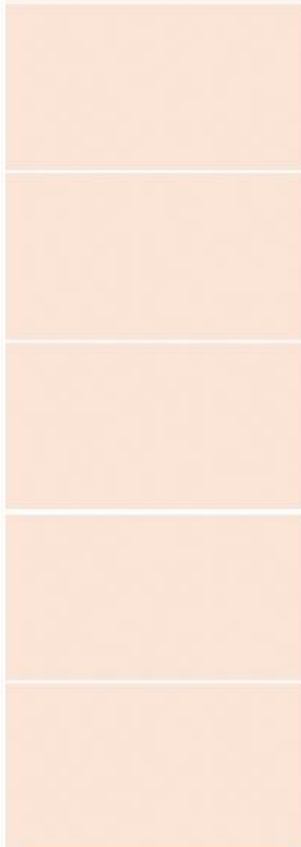
SCRIVI IN CIASCUN RIQUADRO IL NOME DEL SETTORE INDICATO DALLE FRECCE IN OGNUNA DELLE DUE CARTINE MUTE.



ALPI O APPENNINI?

TRASCINA LE DEFINIZIONI SOTTO AL RILIEVO GIUSTO.

ALPI



SI ESTENDONO
DA OVEST A EST

LA CIMA PIÙ
ALTA È IL MONTE
BIANCO

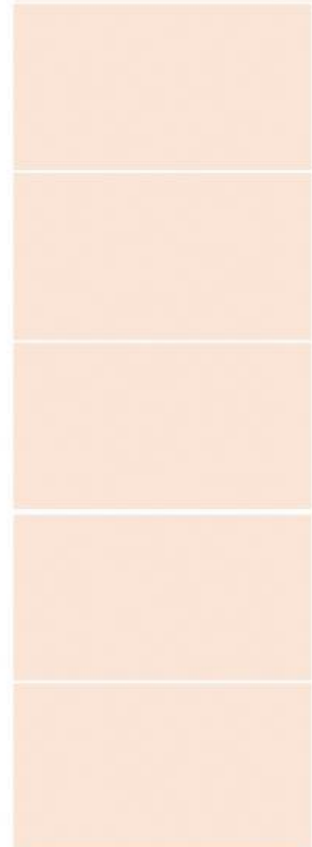
LA VETTA PIÙ
ELEVATA È IL
GRAN SASSO

LE CIME **NON**
SONO MOLTO
ELEVATE

PRESENTANO IN
GENERE UNA
FORMA AGUZZA

DELIMITANO I
CONFINI
DELL'ITALIA A
NORD

APPENNINI



ELENCA LE ATTIVITÀ CHE SI SVOLGONO NEI RILIEVI ALPINI E APPENNINICI.



I VULCANI

SCEGLI LA RISPOSTA CORRETTA

UN VULCANO È **ATTIVO** QUANDO ...

☐ HA ERUTTATO IN TEMPI RECENTI

☐ ERUTTA SPESSO

UN VULCANO È **QUIESCENTE** QUANDO ...

☐ È ORMAI SPENTO DA TEMPO

☐ NON HA ERUZIONI DA MOLTO TEMPO, MA POTREBBE NUOVAMENTE ERUTTARE

OSSERVA CON ATTENZIONE LA CARTA E RISPONDI ALLE DOMANDE

QUANTI VULCANI ATTIVI CI SONO IN ITALIA?

QUALI SONO I VULCANI ATTIVI?

IN QUALE PARTE DELL'ITALIA SI TROVANO I VULCANI ATTIVI?

QUAL È IL VULCANO QUIESCENTE?



I RILIEVI COLLINARI

LEGGI E COLLEGA I DIVERSI TIPI DI COLLINA ALLA SPIEGAZIONE DELLA LORO ORIGINE.

COLLINE VULCANICHE

COLLINE MORENICHE

COLLINE TETTONICHE

SI SONO FORMATE
A CAUSA DEL
SOLLEVAMENTO
DEI FONDALI
MARINI

ERANO ANTICHE
MONTAGNE CHE
NEL TEMPO SONO
STATE EROSE DA
PIOGGIA, VENTO E
NEVE

SONO ANTICHI
VULCANI SPENTI
ORA RICOPERTI
DALLA
VEGETAZIONE

SI SONO FORMATE
A CAUSA
DELL'ACCUMULO DI
DETRITI
TRASPORTATI
VERSO IL BASSO
DAI GHIACCIAI

ELENCA LE ATTIVITÀ CHE SI SVOLGONO IN COLLINA.