



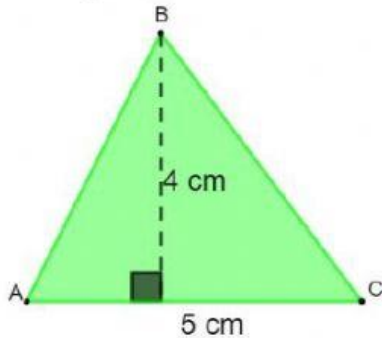
Atividade de Matemática

Nome completo:

01) Qual a área do triângulo que mede, complete corretamente:

- a) 6 cm de base e 3cm de altura 15 cm²
- b) 2 m de altura e 1m de base 9cm²
- c) 5 cm de altura e 6 cm de base 100cm²

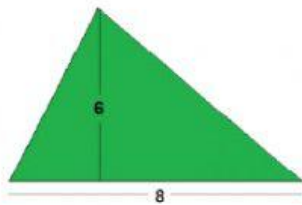
02) Observe a figura;



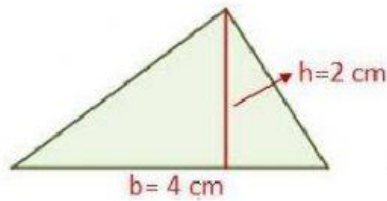
Qual a área desse triângulo?

- a) 15 cm²
- b) 20 cm²
- c) 10 cm²
- d) 9 cm²

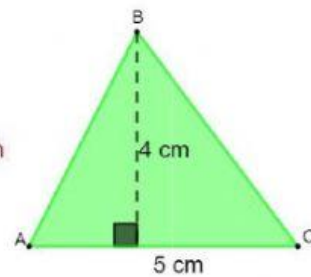
03) Relacione cada triângulo a sua respectiva área.



4 cm²



24 cm²



10 cm²