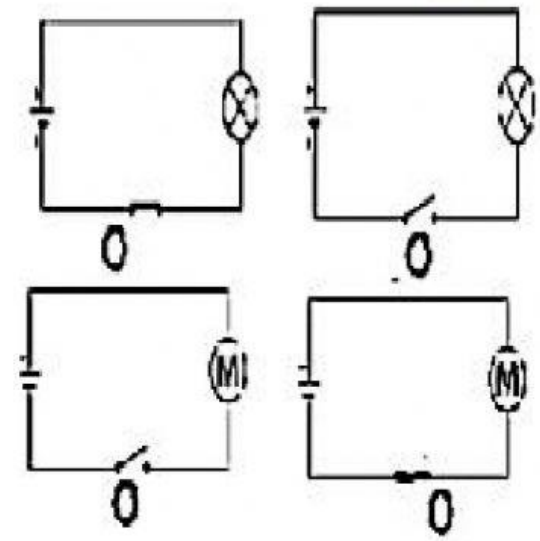
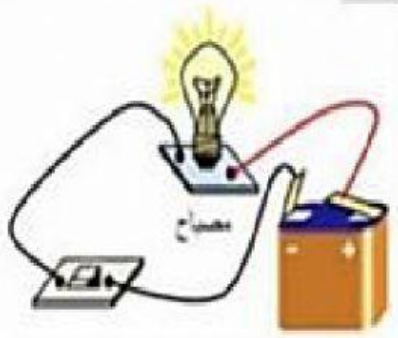
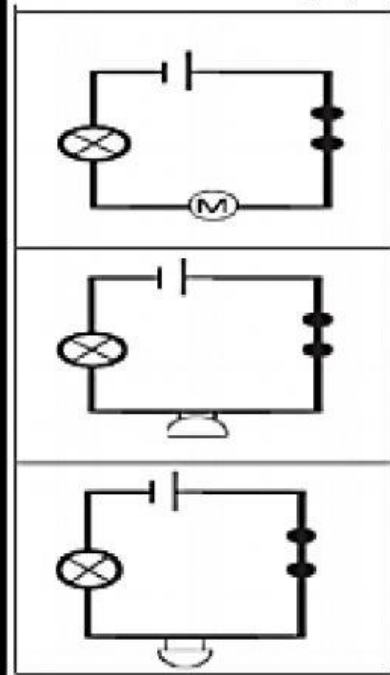


نشاط (3): المخطط الصحيح للدائرة في الصورة يمثل: (ظلل الصواب)



ب. صل بخط بين القائمة اليمنى وما يناسبها من القائمة اليسرى:



- خلية - مفتاح كهربائي - محرك - مصباح كهربائي
- خلية - مفتاح كهربائي - جرس - مصباح كهربائي
- خلية - مفتاح كهربائي - طنان - مصباح كهربائي