

Nama

:

Kelas

:

Hari/ Tanggal

:

Selasa, 4 Mei 2021

Mata Pelajaran


:

Tema 8 Subtema 1 & 2

ULANGAN HARIAN TEMA 8 SUBTEMA 1 DAN 2
SDN JUNREJO 02
KOTA BATU – JAWA TIMUR

Pilihlah huruf a, b, atau c pada jawaban yang paling benar!


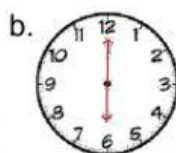
1. Aturan yang ada di rumah harus ditaati oleh ...
 - a. Semua anggota keluarga
 - b. Ayah dan ibu
 - c. Adik dan kakak
2. Kerukunan akan membuat hidup kita menjadi ...
 - a. Tidak Bahagia
 - b. Tenteram dan damai
 - c. Kacau
3. Meskipun memiliki agama yang berbeda, kita tetap harus saling ...
 - a. Menghargai
 - b. Menjelekkan
 - c. Menjatuhkan
4. Berikut sikap yang menunjukkan persatuan dalam keragaman adalah ...
 - a. Bermain Bersama semua teman
 - b. Bermain Bersama teman yang kaya
 - c. Bermain sendirian di lapangan
5. Menjaga kerukunan dilakukan dengan cara ...
 - a. Memusuhi teman
 - b. Menulis puisi
 - c. Mengikuti kerja bakti

6. made mengepel lantai rumah.
Penulisan kalimat di atas yang benar adalah ...
- Made mengepel lantai rumah
 - made mengepel lantai Rumah
 - Made mengepel lantai Rumah
7. Huruf kapital disebut juga dengan huruf ...
- Besar
 - Kecil
 - Bersambung
8. Berikut yang termasuk kalimat tanya adalah ...
- Kapan kamu membeli buku itu?
 - Tolong ambilkan pensilku!
 - Ayo, ikut aku berlatih tari!
9. Berikut yang termasuk penggunaan tanda titik adalah ...
- Untuk memisahkan angka
 - Pemberhentian sementara kalimat
 - Untuk memisahkan setiap kata
10. Tanda titik (.) selalu dibubuhkan disetiap akhir ...
- Kalimat
 - Kata
 - Paragraf
11. Alat yang digunakan untuk menunjukkan waktu disebut ...
- Jam
 - Timbangan
 - Kalkulator
12.  Waktu yang ditunjukkan oleh jam di samping adalah pukul ...
- 03.00
 - 15.00
 - 17.00

sore

13. Rudi belajar pukul
18.00 Rudi belajar
selama 1 jam

Gambar jam yang menunjukkan waktu selesai belajar Rudi adalah ...



14. Kegiatan dimulai pukul 14.00

Kegiatan selesai pukul 18.00

Lama waktu ... menit

- a. 60 b. 120 c. 240

15. Jarum pendek pada jam menunjukkan ...

- a. Menit
b. Jam
c. Detik

16. Bernyanyi selalu memperhatikan ...

- a. Papan tulis
b. Pola irama
c. Contoh guru

17. Tanda ">" dalam menyanyikan lagu berarti ...

- a. Sangat kuat
b. Lemah
c. Kuat

18. Gerak tari lebih baik diiringi dengan ...

- a. Sorakan
b. Hentakan
c. Musik

19. Perhatikan gambar berikut!



Gerakan tari pada gambar merupakan gerakan tari dalam posisi ...

- a. Duduk
b. Tidur
c. Berdiri

20. Berikut yang termasuk alat music ritmis adalah ...

- a. Piano
b. Pianika
c. Gendang