

# Penilaian Akhir Tahun




## Tema 5


Nilai ...

### A. Ayo, memilih satu jawaban yang paling tepat!

KD (3.5)

1. Gerakan bergantung ditunjukkan pada gambar ....

- a. 
- b. 
- c. 






Perhatikan gambar di samping!

Saat melakukan gerakan, kedua kaki ditekuk ke ....

- a. depan
- b. samping
- c. belakang

3. Permainan yang memerlukan kerja sama tim yaitu ....

- a. 
- b. 
- c. 

4. Posisi kedua kaki saat melakukan gerakan ayunan ke kanan dan ke kiri adalah ....

- a. lurus
- b. dibuka
- c. ditekuk

5. Gerakan melompat termasuk gerakan ....


- a. bertumpu
- b. berpindah
- c. keseimbangan

### B. Ayo, mengisi dengan jawaban yang tepat!


KD (3.5)

1. Posisi tubuh saat melakukan gerakan *push-up* adalah .....

2. Gerakan berjinjit dengan satu kaki termasuk gerakan .....

3.  Perhatikan gambar di samping!

Gerakan mendorong dinding termasuk gerakan .....

4.  Perhatikan gambar di samping!

Dimas sedang melakukan gerakan ayunan ke .....

5. Pandangan mata saat melakukan gerakan melangkah adalah .....