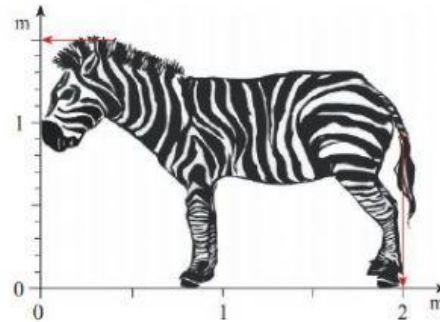
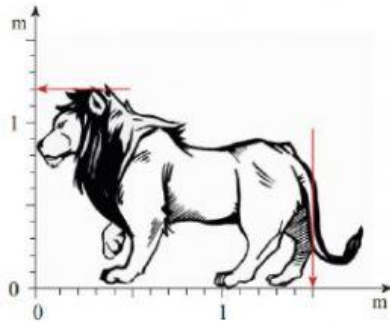


1. Írd le a számokat!

három egész kétezer – ötven tizedred.....

egy egész hat század..... négy egész öt ezred

2. Olvasd le a rajzról, milyen magasak és milyen hosszúak az állatok!



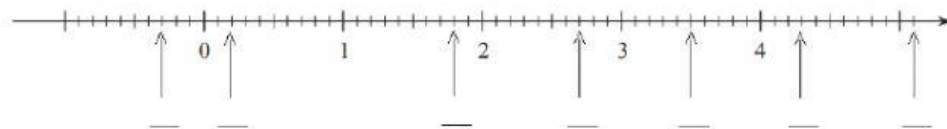
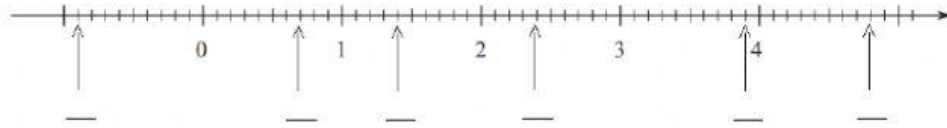
magasság:..... m

magasság:..... m

hosszúság:..... m

hosszúság:..... m


3. Mely számokra mutatnak a nyilak?



4. Olvasd le a képekről, hány centiméter hosszúak a csavarok!



..... cm



.....cm



.....cm



..... cm