






## LKPD INTERAKTIF

Nama :

Kelas :

### A. Pilihlah salah satu jawaban yang paing tepat !

- Gambar seluruh atau sebagian dari permukaan bumi yang dilukiskan ke suatu bidang datar dengan skala tertentu disebut ....
  - peta**
  - legenda
  - globe
  - Horizontal
- Perrbandingan jarak pada peta dengan jarak sebenarnya di permukaan bumi disebut ....
  - luas
  - keliling
  - skala**
  - legenda
- Peta memiliki syarat – syarat tertentu. Syarat – syarat umum yang tidak terdapat pada peta adalah ....
  - judul peta
  - luas wilayah**
  - tata warna
  - skala
- Syarat umum peta yang berguna untuk memperjelas perbedaan suatu tempat dengan tempat lain di alam sebenarnya adalah ....
  - tata warna**
  - tata surya
  - warna peta
  - warna alam
- Keterangan gambar yang terdapat dalam peta disebut ....
  - garis tepi peta
  - tata warna
  - legenda**
  - skala
- Peta menggunakan simbol-simbol untuk. Menunjukkan ibu kota provinsi, simbol yang digunakan adalah ....
  - 
  - 
  - 
  - 
- Simbol  pada peta menunjukkan arti ....
  - sungai
  - bandar udara**
  - jalan raya
  - danau
- bentuk skala peta ada beberapa macam. 1 : 1.000.000 merupakan contoh peta yang menggunakan skala ....
  - angka**
  - garis
  - verbal
  - utama
- Sebuah peta menggunakan warna-warna tertentu yang mnemiliki arti. Warna biru pada peta menggambarkan ....
  - kota
  - gunung
  - pegunungan
  - laut**
- Dataran tinggi pada peta digambarkan dengan warna ....
  - hijau
  - biru
  - kuning**
  - merah

