



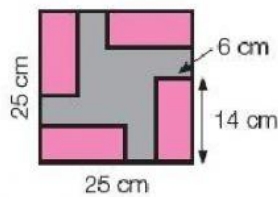
Actividad 3

4. Resuelve:

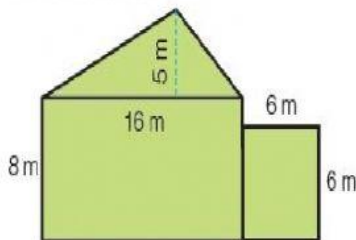
- En una urbanización hay un jardín rectangular de 30 m de largo por 25 m de ancho. En el jardín hay una piscina cuadrada de 10 m de lado. ¿Cuál es el área del jardín alrededor de la piscina?
- En una pared cuadrada de 3 m de lado se ha colocado un tapiz triangular de 2 m de largo y 0,5 m de ancho. ¿Qué área de pared ha quedado sin cubrir?
- Teresa tiene una cartulina de 70 cm de largo y 50 cm de ancho. Recorta un cuadrado de 12 cm de lado y un triángulo de 20 cm de largo y 10 cm de alto. ¿Qué área de cartulina le queda?

5. Resuelve

Enrique está buscando baldosas para el suelo de su cocina y ha elegido esta. ¿Cuál es el área de la zona gris?



6 Observa las figuras que forman el dibujo y calcula el área total.



Área del triángulo

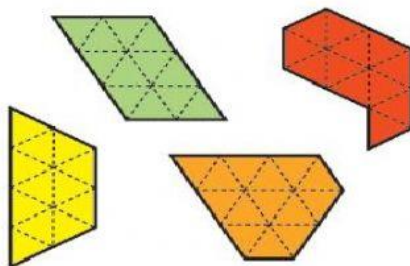
Área del Rectángulo No1

Área del Rectángulo No2

Área de la figura

Observa las figuras y contesta.

Se ha tomado como unidad de medida un triángulo equilátero.



- ¿Qué figura tiene mayor área?
- ¿Qué figuras tienen igual área?
- ¿Cuáles tienen el mismo perímetro?