

1. Observa y contesta.



a) ¿En qué número piensa Iván? Escríbelo de las siguientes formas.

- unidades y centésimas.
- ,
- coma

2. Completa las siguientes igualdades.

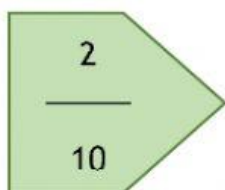
a) 2 décimas = centésimas

b) décimas = 80 centésimas

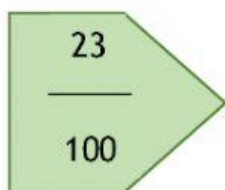
c) 40 centésimas = décimas

d) 50 = décimas

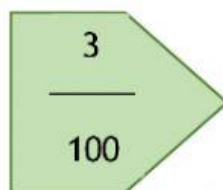
3. Une cada fracción con la expresión equivalente.



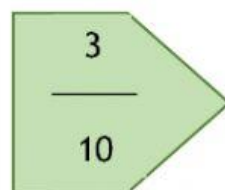
3 centésimas



2 décimas



3 décimas



23 centésimas

4. Rellena la tabla

Parte entera	Parte decimal	Se escribe
16	47 centésimas	
7	8 décimas	
15		15, 86
		306, 23