
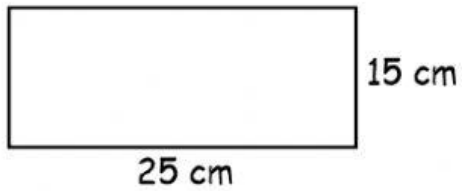
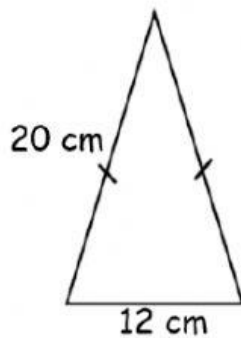


1) Calcule le périmètre des figures suivantes. Prends le temps de bien faire ta démarche comme nous l'avons fait dans tes notes de cours! Inscris ta démarche dans le rectangle à droite de la figure.

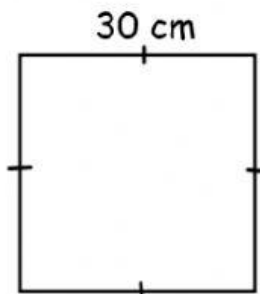
a)



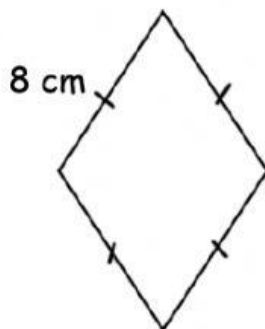
b)



c)



d)



**2) Pour chaque situation, donne la formule, le calcul et la réponse.**

a) Trouve le périmètre d'un triangle équilatéral dont les côtés mesurent 6 cm chacun.

b) Un rectangle dont la longueur mesure 8 cm et la largeur mesure 2 cm. Trouve son périmètre.

c) Un carré possède des côtés de 7 cm. Trouve son périmètre.

**3) M. Drouin veut mettre une clôture autour de son grand jardin. Son jardin a une forme rectangulaire et mesure 4 m de longueur et 2 m de largeur. La clôture se vend 8\$/m. Combien cela lui coûtera-t-il ?**