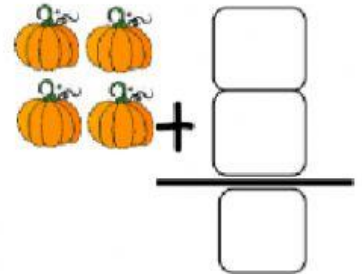
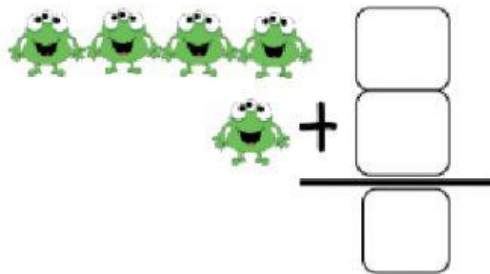
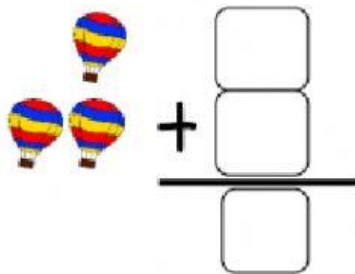
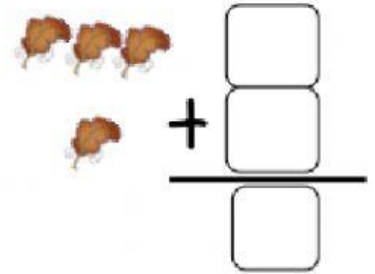
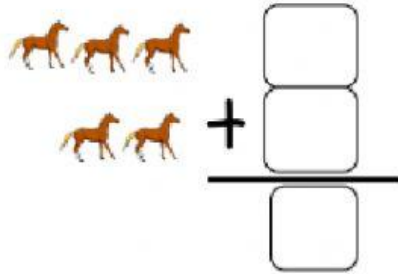
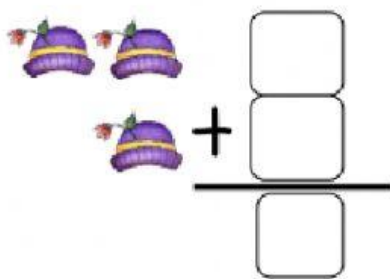


ΟΝΟΜΑ: _____

ΜΑΘΗΜΑΤΙΚΑ 2^η ΕΝΟΤΗΤΑ

Κεφ.14: Γραφή της πρόσθεσης με χρήση συμβόλων 2

1. Γράψω τους αριθμούς στα κουτάκια και κάνω τις παρακάτω προσθέσεις κάθετα.



2. Κάνω τις παρακάτω προσθέσεις κάθετα.

$$\begin{array}{r} 0 \\ + 5 \\ \hline \square \end{array}$$

$$\begin{array}{r} 5 \\ + 0 \\ \hline \square \end{array}$$

$$\begin{array}{r} 1 \\ + 4 \\ \hline \square \end{array}$$

$$\begin{array}{r} 4 \\ + 1 \\ \hline \square \end{array}$$

$$\begin{array}{r} 3 \\ + 2 \\ \hline \square \end{array}$$

$$\begin{array}{r} 3 \\ + 2 \\ \hline \square \end{array}$$

$$\begin{array}{r} 0 \\ + 4 \\ \hline \square \end{array}$$

$$\begin{array}{r} 4 \\ + 0 \\ \hline \square \end{array}$$

$$\begin{array}{r} 1 \\ + 3 \\ \hline \square \end{array}$$

$$\begin{array}{r} 3 \\ + 1 \\ \hline \square \end{array}$$

$$\begin{array}{r} 2 \\ + 2 \\ \hline \square \end{array}$$

$$\begin{array}{r} 0 \\ + 3 \\ \hline \square \end{array}$$

$$\begin{array}{r} 3 \\ + 0 \\ \hline \square \end{array}$$


$$\begin{array}{r} 1 \\ + 2 \\ \hline \square \end{array}$$

$$\begin{array}{r} 2 \\ + 1 \\ \hline \square \end{array}$$

$$\begin{array}{r} 0 \\ + 2 \\ \hline \square \end{array}$$

$$\begin{array}{r} 2 \\ + 0 \\ \hline \square \end{array}$$

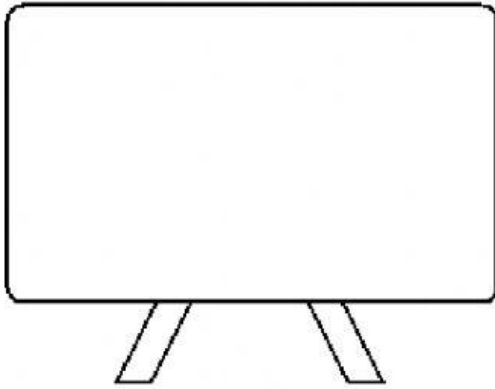
$$\begin{array}{r} 1 \\ + 1 \\ \hline \square \end{array}$$



3. Ο Σωτήρης έχει 4 κόκκινες μπάλες και 1 πράσινη μπάλα. Πόσες μπάλες έχει;

Ζωγραφίζω

Λογαριάζω



$$\begin{array}{r} \dots \\ + \dots \\ \hline \square \end{array} \quad \text{ή} \quad \dots + \dots = \dots$$



Απαντώ

Ο Σωτήρης έχει μπάλες.

4. Λογαριάζω πόσα κάνουν όλα μαζί. Ύστερα γράφω δίπλα όπως θα τα έγραφε η μάγισσα Προσθετόλ (με αριθμούς).

$$\text{🐣} + \text{🐣} + \text{🐣} = \square$$

$$\square + \square + \square = \square$$

$$\text{🐣} + \text{🐣} + \text{🐣} = \square$$

$$\square + \square + \square = \square$$

$$\text{🐣} + \text{🐣} + \text{🐣} + \text{🐣} = \square$$

$$\square + \square + \square = \square$$

$$\text{🐣} + \text{🐣} = \square$$

$$\square + \square = \square$$

$$\text{🐣} + \text{🐣} + \text{🐣} + \text{🐣} = \square$$

$$\square + \square = \square$$