


ESCOLA ESTADUAL "VINÍCIUS MEYER"
ATIVIDADE COMPLEMENTAR DE CIÊNCIAS NATURAIS

ALUNO (A): _____ TURMA: _____

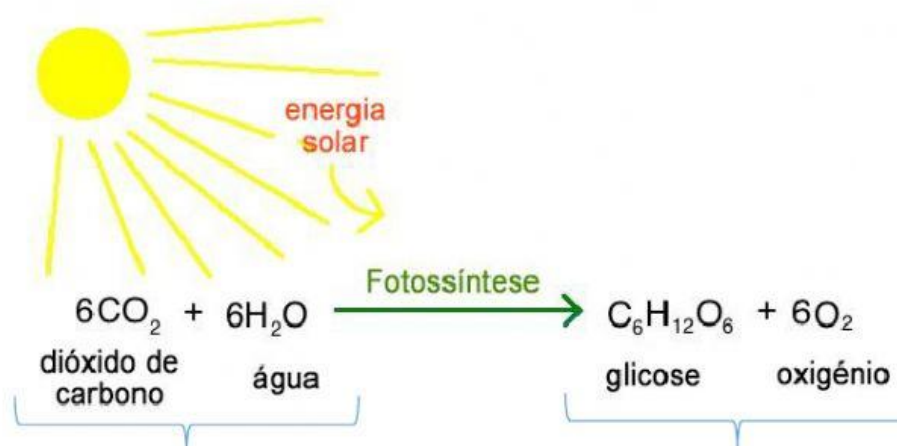
PROFESSORA: EDILAINE ANDRADE GOUVÊA FERNANDES



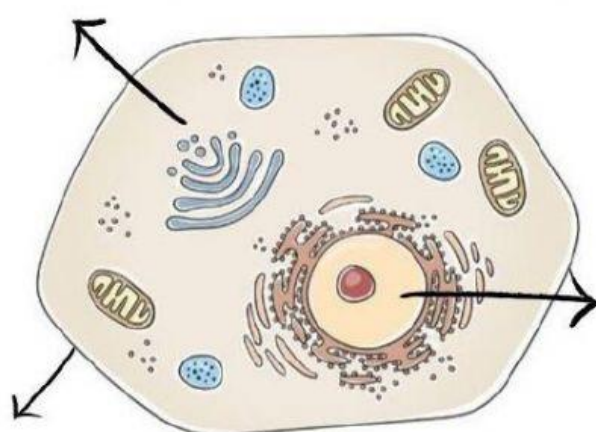
1. Assinale V ou F:

- () Uma substância pura é formada por um único tipo de moléculas.
- () Todas as misturas apresentam duas ou mais fases.
- () A água do mar é uma mistura.
- () O óleo na água forma uma mistura heterogênea.
- () A queima de uma folha de papel é uma reação física apenas.
- () O apodrecimento de uma fruta é uma reação química.
- () Todo ser vivo tem ao menos uma célula.
- () Bactérias são seres unicelulares, pois tem apenas 1 célula.
- () O conjunto de células forma um órgão.
- () O fígado é um exemplo de órgão.
- () Os neurônios são células do sistema respiratório.
- () A vida se desenvolve no núcleo da Terra.
- () A crosta terrestre é a camada superficial do planeta.

2. Analise a reação química abaixo e escreva nos espaços quais são os **PRODUTOS** e os **REAGENTES**:



3. Arraste os nomes das partes básicas da célula ao lugar correto:



Citoplasma

**Membrana
plasmática**

Núcleo