






Nome: \_\_\_\_\_ 4º ano \_\_\_\_ Data: \_\_\_\_\_

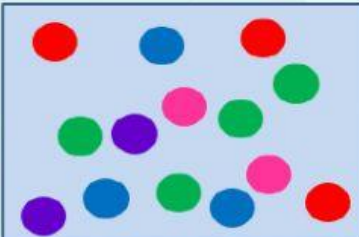
Atividade de matemática do dia 20/04/2021


## Sugestão de Atividade

Agora é com você, aluno do 4º ano. Decodifique as duas mensagens abaixo, substituindo os símbolos pelos números correspondentes e assim compondo um número definitivo.

				
10 000	1 000	100	10	1





#eunocmsp

Os números que estão escritos nos cartões coloridos são compostos pelos valores presentes no quadro, porém eles estão misturados. Encontre os valores posicionais dos algarismos que formam cada número

E escreva dentro dos quadradinhos a inicial de cada cor correspondente ao número.

51 493	15 732	93 241
--------	--------	--------

<input type="checkbox"/> 400	<input type="checkbox"/> 1 000	<input type="checkbox"/> 10 000
<input type="checkbox"/> 1	<input type="checkbox"/> 2	<input type="checkbox"/> 90
<input type="checkbox"/> 30	<input type="checkbox"/> 40	<input type="checkbox"/> 3
<input type="checkbox"/> 50 000	<input type="checkbox"/> 90 000	<input type="checkbox"/> 5 000
<input type="checkbox"/> 200	<input type="checkbox"/> 700	<input type="checkbox"/> 3 000