


# NOMBRA EL POLÍGONO!

¿Puedes nombrar el polígono según la cantidad de lados?




cuatro lados




cinco lados



seis lados



siete lados



ocho lados



nueve lados