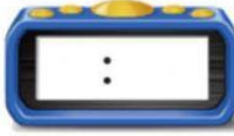



استخدم 🕒. اذكر الوقت الظاهر أمامك ثم اكتب الوقت.

1.




_____ الساعة

2.



_____ الساعة

3.



_____ الساعة

استخدم 🕒. اذكر الوقت الظاهر أمامك، ثم اكتب الوقت.

4.



_____ الساعة

5.



_____ الساعة


6.



_____ الساعة

ارسم العقارب على الساعة ثم اكتب الوقت.

9. الساعة 3



8. الساعة 10



7. الساعة 5

