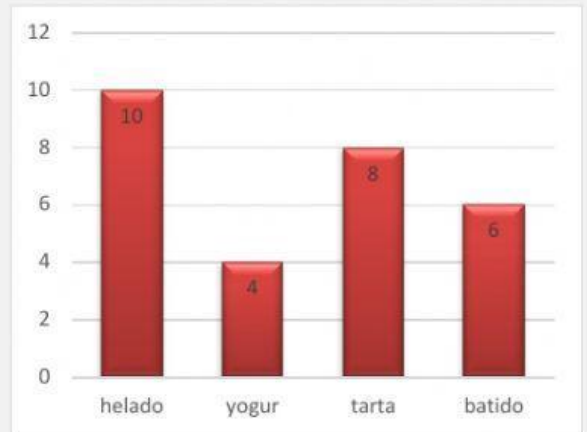


GRÁFICOS DE BARRAS

Observa y contesta.

En el cumpleaños de Mari Carmen han invitado a 28 personas y estas han sido las preferencias a la hora de tomar el postre.



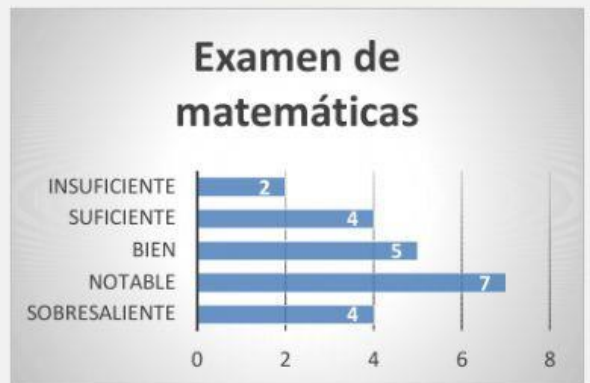
- ¿Cuántas personas han elegido cada postre?

helado yogur tarta batido

- ¿Qué postre han preferido más personas?

- ¿Qué postre han elegido menos personas?

En el último examen de matemáticas los alumnos de la clase han obtenido las siguientes calificaciones.



- Rellena los datos y contesta.


Insuficiente	Suficiente	Bien	Notable	Sobresaliente
<input type="text"/>	<input type="text"/>	<input type="text"/>	<input type="text"/>	<input type="text"/>

- ¿Cuántos alumnos hay en la clase?

- ¿Cuántos notables más que sobresalientes hay?

Hemos preguntado a los alumnos y alumnas de 2º cuáles eran sus frutas preferidas y estos son los resultados:

Melocotón 3
 Manzana 6
 Fresas 8
 Plátano 5



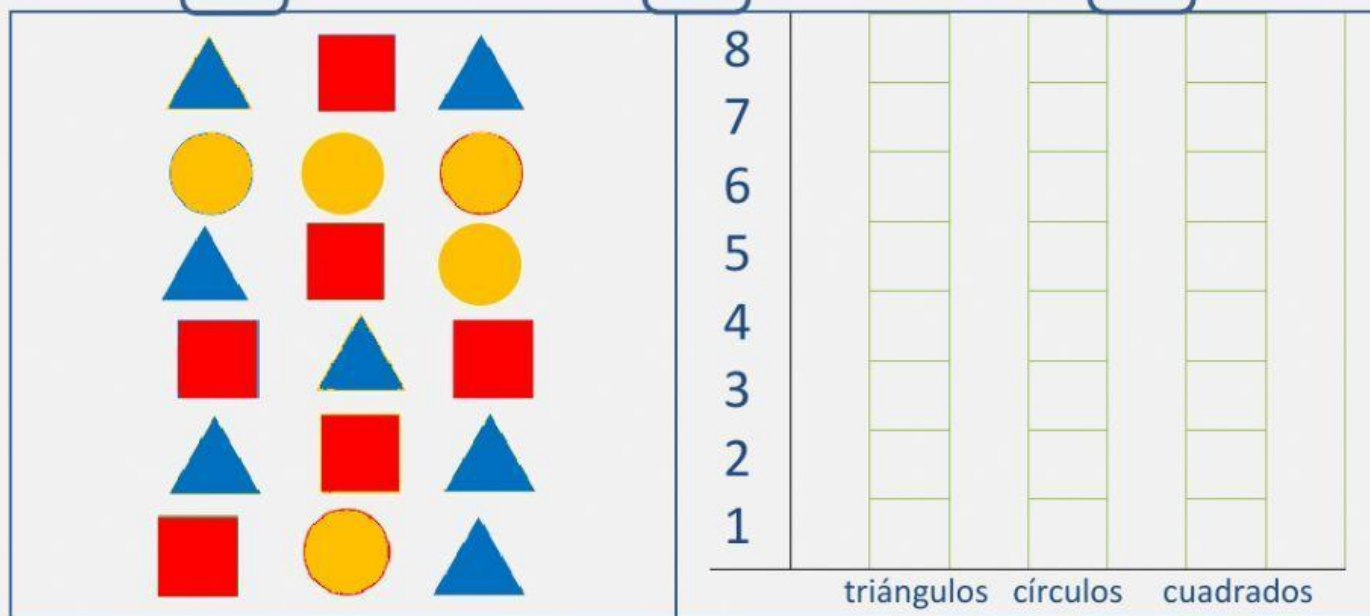
- ¿A cuántos alumnos les gusta más las fresas que las manzanas?
- ¿A cuántos niños/as les gusta menos el melocotón que el plátano?
- ¿A cuántos niños hemos preguntado en total?

Cuenta las figuras, escribe el resultado y completa la tabla.

triángulos

círculos

cuadrados



- ¿Cuántos círculos menos que triángulos hay?
- ¿Cuántos triángulos más que cuadrados hay?