

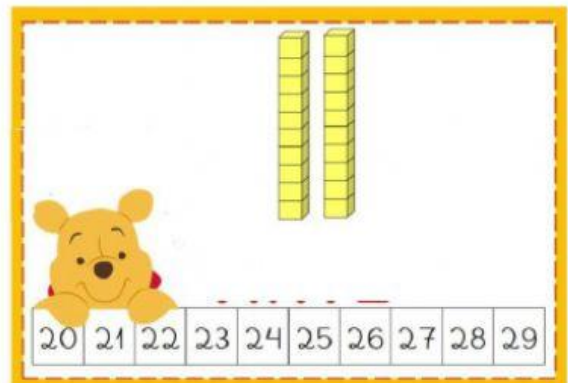
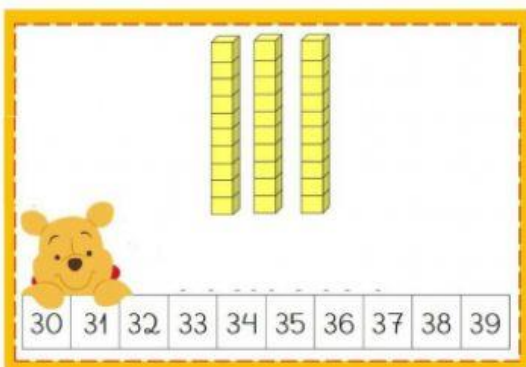
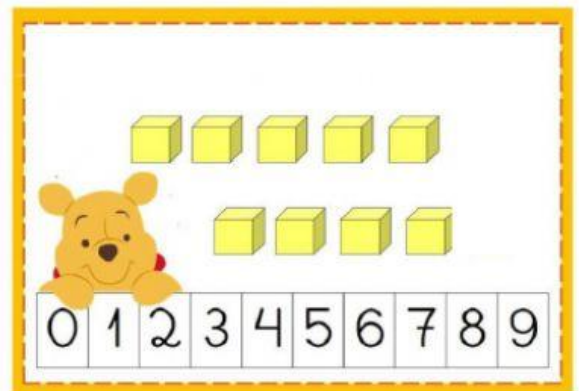
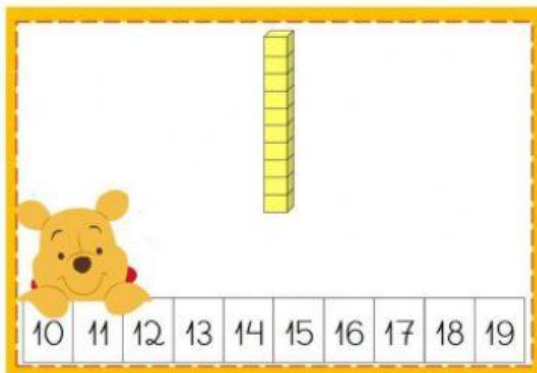
ATIVIDADES ADAPTADAS

O sistema numérico decimal usa apenas dez símbolos (0, 1, 2, 3, 4, 5, 6, 7, 8, 9) que têm diferentes valores dependendo de sua posição no numeral. É constituído por agrupamentos de 10 em 10.

AGORA OBSERVE OS ALGARISMOS E COLOQUE-OS NA ORDEM CORRETA

5 0 4 6 3 8 2 7 1 9

CONTE OS CUBINHOS E MARQUE UM X NO NÚMERO CORRESPONDENTE.



ESCOLA _____
PROFESSORA _____ - _____ TURMA _____
NOME _____ DATA _____

CONTE OS OBJETOS , MARQUE O NÚMERO CORRESPONDENTE E
REPRESENTE OS NÚMEROS NO QUADRO DE ORDEM :




~~13~~

10

11

D	U
1	3



12

14

11

D	U



12

15

14

D	U


ESCOLA _____
PROFESSORA _____ - _____ TURMA _____
NOME _____ DATA _____



15



18



16



13




17



18



14



18



19

ESCOLA _____

PROFESSORA _____ - _____ TURMA _____

NOME _____ DATA _____