

PRECEDENTE E SUCCESSIVO

◆ Scrivi il numero precedente.

__	8
----	---

__	6
----	---

__	3
----	---

__	5
----	---

__	4
----	---

◆ Scrivi il numero successivo.

7	__
---	----

1	__
---	----

9	__
---	----

5	__
---	----

6	__
---	----

◆ Scrivi il numero precedente e quello successivo.

__	5	__
----	---	----

__	9	__
----	---	----

__	7	__
----	---	----

__	4	__
----	---	----

__	3	__
----	---	----


__	6	__
----	---	----

__	2	__
----	---	----


__	8	__
----	---	----

MAGGIORE, MINORE, UGUALE

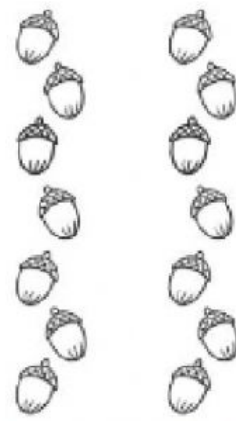
◆ Scrivi il numero di elementi e completa con i segni $>$, $<$, $=$.



__	□	__
----	---	----



__	□	__
----	---	----



__	□	__
----	---	----

◆ Completa con i segni $>$, $<$, $=$.

$5 \square 3$

$9 \square 10$

$7 \square 9$

$6 \square 6$

$1 \square 2$

$3 \square 2$

$8 \square 8$

$4 \square 7$

$4 \square 3$

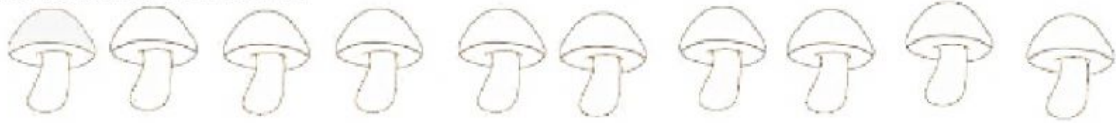
$8 \square 10$

$5 \square 2$

$1 \square 1$

2 LEGGI E COLORA COME INDICATO.

COLORA 5 FUNGHI.



COLORA IL 5° FUNGO.



COLORA IL 1°, IL 2° E IL 3° FUNGO.



GLI AMICI DEL 10

2 AIUTATI CON LE PALLINE E COMPLETA LE ADDIZIONI.



$8 + \boxed{\text{.....}} = 10$

$\boxed{\text{.....}} + 5 = 10$

$\boxed{\text{.....}} + 0 = 10$

$3 + \boxed{\text{.....}} = 10$

$\boxed{\text{.....}} + 6 = 10$

$2 + \boxed{\text{.....}} = 10$

$4 + \boxed{\text{.....}} = 10$

$\boxed{\text{.....}} + 9 = 10$

$\boxed{\text{.....}} + 1 = 10$