



SD NEGERI 01 PENDOPO

LEMBAR KERJA PESERTA DIDIK KELAS 2c (



TEMA 7: KEBERSAMAAN

SUBTEMA 2: KEBERSAMAAN DI SEKOLAH

Tujuan Pembelajaran

1. Dengan memperhatikan gambar dan penjelasan guru, siswa dapat menyebutkan pecahan dengan percaya diri.
2. Dengan memperhatikan gambar, siswa dapat menuliskan pecahan secara cermat.

Matematika

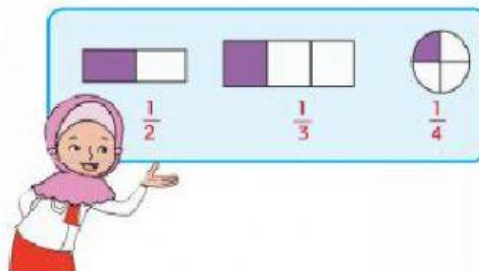
- 3.7 Menjelaskan pecahan $\frac{1}{2}$, $\frac{1}{3}$, dan $\frac{1}{4}$ menggunakan benda-benda konkret dalam kehidupan sehari-hari.
- 4.7 Menyajikan pecahan $\frac{1}{2}$, $\frac{1}{3}$, dan $\frac{1}{4}$ yang bersesuaian dengan bagian dari keseluruhan suatu benda konkret dalam kehidupan sehari-hari.

Membuat Kartu Pecahan

Siti dan teman-teman diberi tugas membuat kartu pecahan.

Masing-masing siswa membuat tiga kartu pecahan.

Siti membuat pecahan setengah, sepertiga, dan seperempat.



Dalam membuat pecahan, membagi gambar harus sama besar.

Perhatikan gambar yang menunjukkan pecahan setengah berikut!

Pembagian tidak
sama besar



Bukan pecahan $\frac{1}{2}$

Pembagian sama
besar



Pecahan $\frac{1}{2}$

Ayo Berlatih



Pilihlah pecahan berikut sesuai gambarnya dengan memberi tanda centang (v)

$$\frac{1}{2}$$



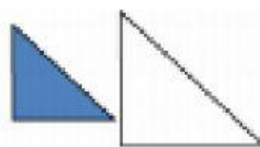
$$\frac{1}{3}$$



$$\frac{1}{4}$$




$$\frac{1}{2}$$




Pasangkan gambar berikut dengan pecahan yang sesuai!

Banyaknya siswa laki-laki pada kumpulan siswa berikut sesuai dengan nilai pecahan ...




 $\frac{1}{2}$



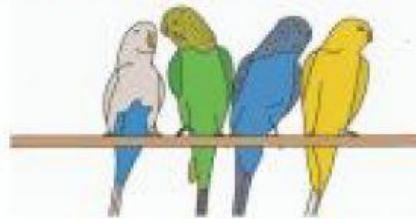
 $\frac{1}{3}$



 $\frac{1}{4}$

Pasangkan pecahan dan gambar yang sesuai!
Nyatakan pecahan yang menyatakan banyaknya
burung kuning dari kawanan burung berikut ini!

$\frac{1}{2}$



$\frac{1}{3}$



$\frac{1}{4}$

