



ESCOLA MUNICIPAL MARIA UMBELINO DE MELO – EMMUM
SANTO ANTÔNIO – RN 2021 ANO ESCOLAR: 3º TURMA: “B” TURNO: VESPERTINO
PROFESSOR: MÁRCIO LEMOS

ALUNO(A):

ATIVIDADE DE GEOGRAFIA


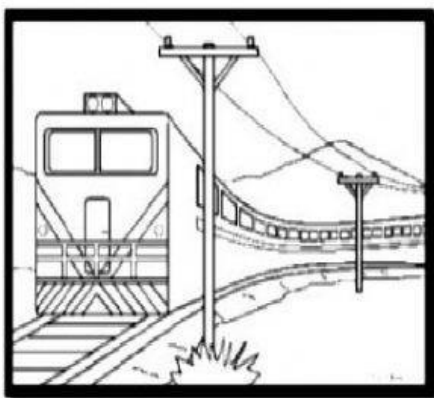

1) Observe as ilustrações abaixo e identifique-as de acordo com a legenda.

1

Paisagem natural

2

Paisagem modificada

☐☐☐☐

2) Observe a cena abaixo e depois responda de acordo com o que se pede



3) Marque um X no quadrinho que indica o que existe na paisagem.

☐ PÁSSARO ☐ MÓVEIS ☐ CASAS ☐ PESSOAS ☐ ESCOLA

☐ PLANTAS ☐ ÔNIBUS ☐ RIO ☐ MONTANHAS ☐ PEIXES

☐ CERCA ☐ CANOA ☐ CAVALO ☐ PORCO ☐ ELEFANTE

☐ AVIÃO ☐ TRATOR ☐ ÁGUA ☐ PEDRAS ☐ SAPO