

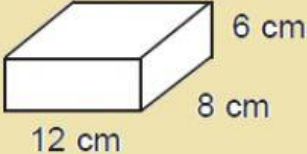
Kubus dan Balok

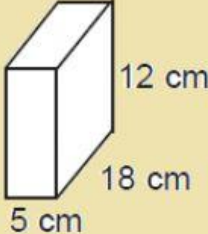
Nama :


Sekolah :

Jawablah pertanyaan berikut dengan benar!

1. Kubus rusuknya 4 cm, maka volumenya = ... cm^3 .
2. Kubus volumenya 729 cm^3 , maka panjang sisinya ... \times ... cm.

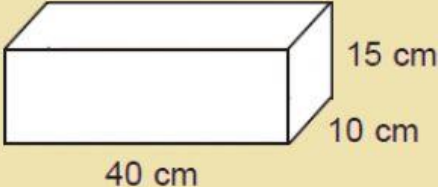
3.  volume balok pada gambar di samping adalah ... cm^3 .

4.  volume bangun balok pada gambar di samping adalah ... cm^3 .

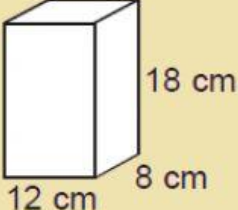
5.  volume = ... kubus satuan.

6.  volume = ... kubus satuan.

7. Kubus rusuknya 5 cm, volumenya adalah ... cm^3 .
8. Panjang balok 24 cm, lebar 16 cm, dan tingginya 9 cm. Volumenya ... cm^3 .

9. 

Volume = ... cm^3

10. 

Volume = ... cm^3