



ENSINO FUNDAMENTAL I – 1º ANO / PROFESSORA: IVILÁLIA FREIRE

TURNO: MATUTINO ATIVIDADE I TRIMESTRE

ALUNO: _____ DATA _____

CONTANDO E COMPARANDO: COLEÇÕES IGUAIS

VAMOS CONVERSAR SOBRE QUANTIDADES?

ENTÃO, RESPONDA:

❖ QUANTOS ANOS VOCÊ TEM?

❖ VOCÊ TEM IRMÃOS?

❖ SE SIM, QUANTOS?

❖ QUANTAS PESSOAS MORAM EM SUA CASA?

❖ MÃO NA MASSA

VAMOS CONTAR A QUANTIDADE DE MENINOS E MENINAS?

OBSERVE A IMAGEM A BAIXO E RESPONDA:



OBSERVE QUANTOS COLEGAS HÁ NA SUA TURMA.

ESCREVA NO QUADRO A SEGUIR, QUANTAS MENINAS E MENINOS HÁ NA SUA TURMA:



MENINOS	MENINAS



AGORA, RESPONDA:

HÁ MAIS MENINOS OU MENINAS NA SALA?




FIGURA 1




FIGURA 3




FIGURA 2

VAMOS ANALISAR AS TRÊS FIGURAS:

AGORA, RESPONDA:

A FIGURA 1 TEM QUANTOS PALITOS?

FIGURA 2 TEM QUANTOS PALITOS?

FIGURA 3 TEM QUANTOS PALITOS?

QUAL FIGURA TEM MAIS PALITOS?

VOCÊ REALIZOU CONTAGENS E COMPARAÇÃO DE ELEMENTOS EM UMA COLEÇÃO.

AGORA, COMPLETE AS FRASES:

- NA SALA HÁ _____ MENINOS E _____ MENINAS.
- A FIGURA 1 TEM _____ PALITOS E
- A FIGURA 2 _____ PALITOS.

PARA COMPARAR QUANTIDADES, UTILIZAMOS OS TERMOS DECOMPARAÇÃO:

MAIS

MENOS

MESMA QUANTIDADE

AGORA, COMPLETE AS FRASES A SEGUIR USANDO OS TERMOS DECOMPARAÇÃO (MAIS, MENOS OU MESMA QUANTIDADE):

- NA SALA HÁ _____ MENINAS QUE MENINOS.
- A FIGURA 1 POSSUI _____ PALITOS QUE A FIGURA 2.
- A FIGURA 1 POSSUI _____ DE PALITOS DA FIGURA 3.