



## RESOLVIENDO SUMAS

Recuerda que el signo “+” manda a juntar

$7 + 4 = \square$

$3 + 3 = \square$

$4 + 2 = \square$

$5 + 2 = \square$

$1 + 6 = \square$

$4 + 1 = \square$

$9 + 1 = \square$

$5 + 2 = \square$

$3 + 0 = \square$

$3 + 3 = \square$

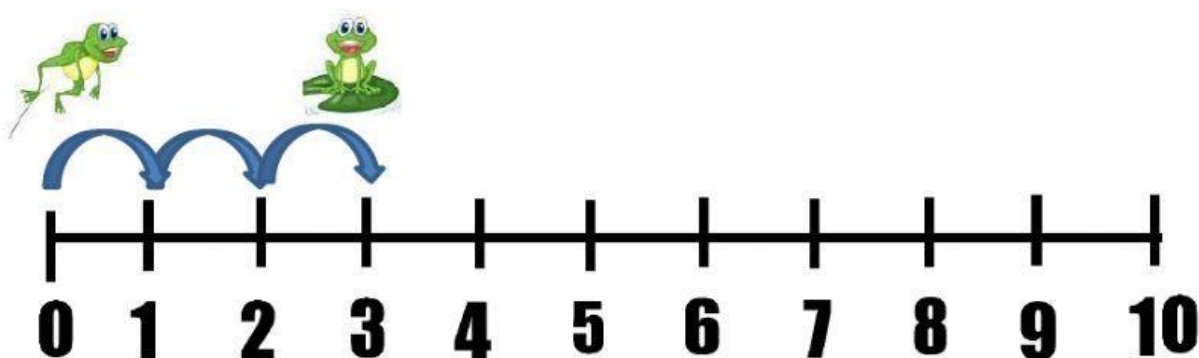
$1 + 8 = \square$

$4 + 1 = \square$

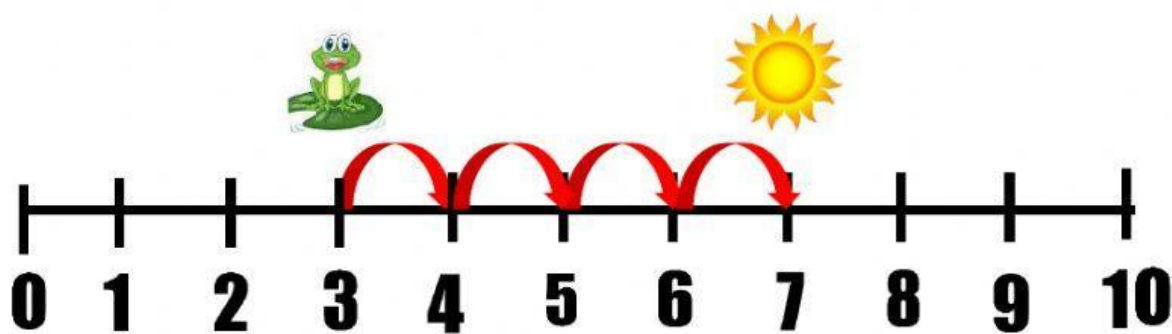
## RECTA NUMÉRICA

Observa la recta numérica y responde las siguientes preguntas:

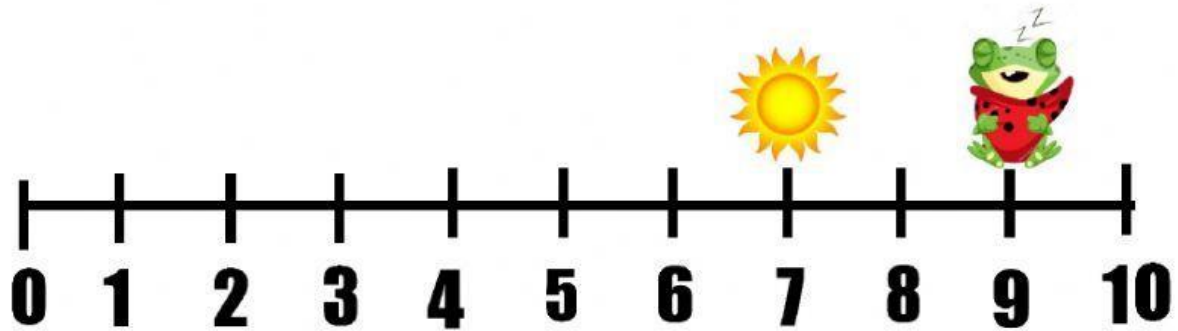
1) El sapito saltarín comenzó a saltar, ¿en qué número se detuvo a descansar?



2) Luego avanzó a tomar el sol ¿Cuántos nuevos saltos debió dar?



3) Finalmente, caída la noche, se fue a dormir. ¿Cuánto debió saltar desde que tomaba el sol para llegar a su almohada y dormir?



4) Considerando todas las actividades que realizó el Sapito Saltarín. ¿Cuánto debió saltar desde que inició sus saltos hasta que se fue a dormir?

