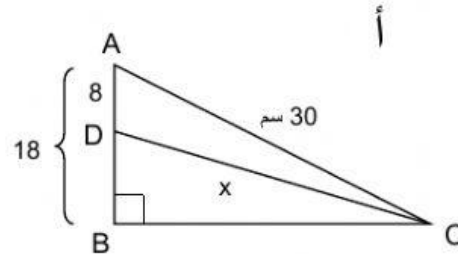
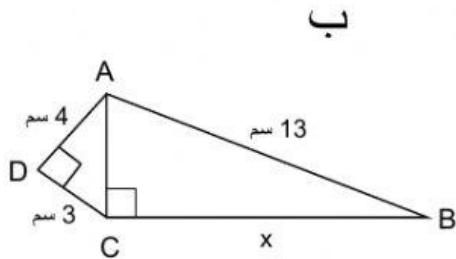
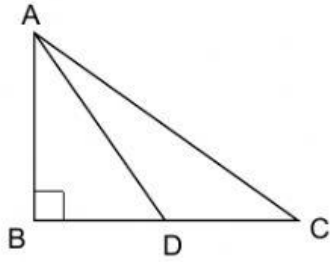


**حل التمارين التالية وسجل الاجابات في استمارة الاجابات المرفقة**

1. في كل واحدة من الرسومات التالية جدوا طول الضلع المُشار اليه بـ  $x$ .





3. مساحة المثلث  $\Delta ABC$  30 سم<sup>2</sup>.

طول القطعة BD 6 سم.

AD متوسط على الارتفاع BC.

جدوا طول المتوسط AD.

4. معطى مثلث متساوي الساقين  $\Delta ABC$ .

طول أحد ساقيه 25 سم، وطول الارتفاع على القاعدة 20 سم.

جدوا طول قاعدة المثلث واحسبوا مساحة المثلث.

### عمل موفق