




نشاط تدريبي

اسحب كل كلمة الى الشكل المناسب:



الشكل رباعي

الشكل ثلاثي

الشكل سباعي

الشكل سداسي

صل كل صفة من صفات الاشكال الرباعية الى الشكل الرباعي المناسب:



كل ضلعين فيه متقابلين
متطابقان ومتوازيان

يوجد فيه ضلعان
متوازيان فقط

له 4 اضلاع متطابقة وكل
ضلعين متقابلين متوازيان

له 4 زوايا قائمة وكل ضلعين
متقابلين فيه متطابقان ومتوازيان

له 4 زوايا قائمة وكل ضلعين
متقابلين متوازيان واضلاعه
كلها متطابقة