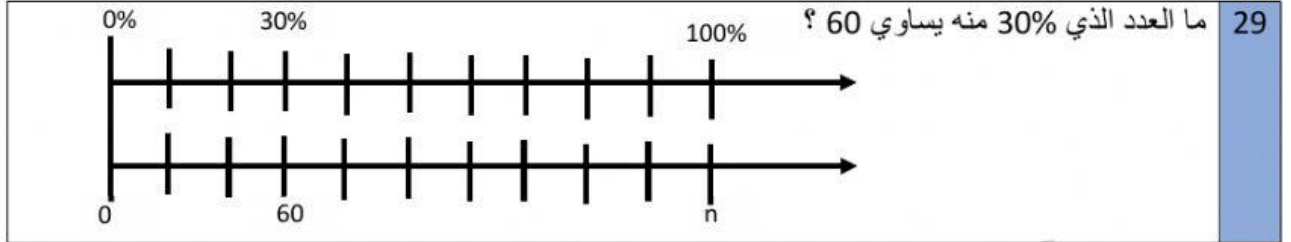
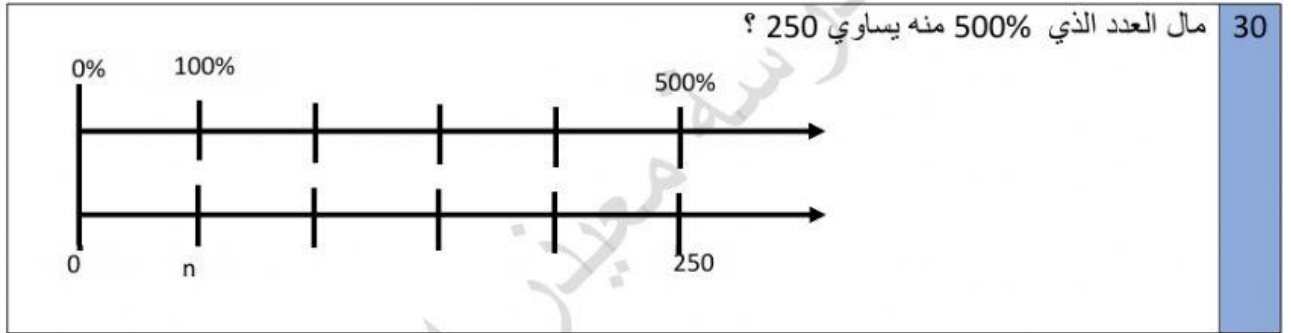


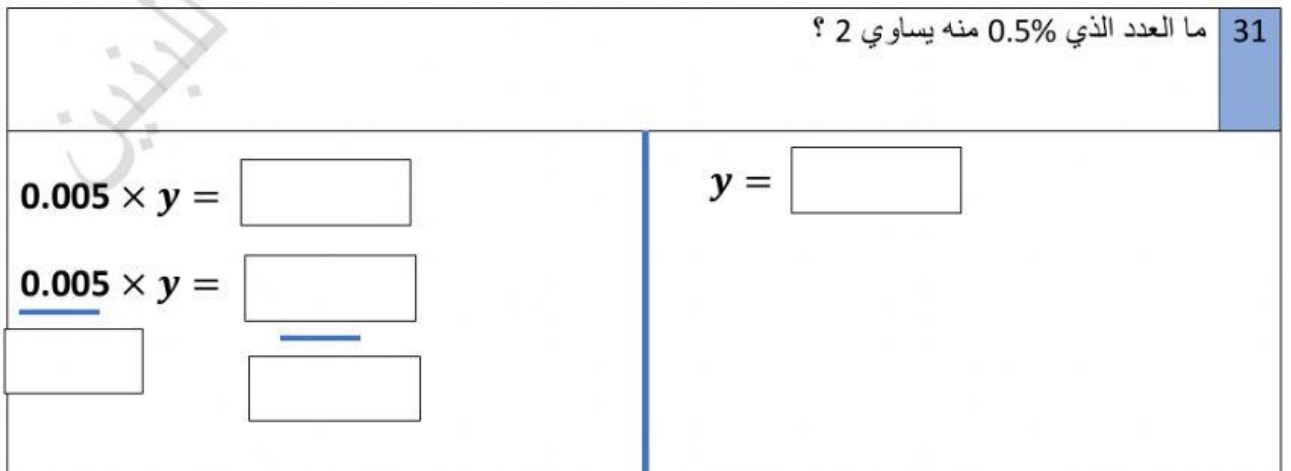
إيجاد الكل بمعلومية الجزء والنسبة المئوية



n =



n =



<p>كرة القدم %20 الجمباز %40 كرة السلة %40</p>	32
إذا كان عدد الطلبة الذين يفضلون كرة القدم هو 6 طلاب ، انظر الى التمثيل المجاور ، ثم أوجد عدد الطلاب في هذا الصف ؟	
$0.2 \times y =$ <input type="text"/>	$y =$ <input type="text"/>
$0.2 \times y =$ <input type="text"/>	
<input type="text"/>	
	33
ما العدد الذي 60% منه يساوي 24	
A 4	
B 40	
C 400	
D 4000	
	34
ما العدد الذي 70% منه يساوي 28	
A 4	
B 40	
C 400	
D 4000	
	35
دفع محمد 40% من مصروفه على الأكل ، و يبلغ مقدار مادفعه على الاكل 5 QR ، كم مصروف محمد ؟	
$0.4 \times y =$ <input type="text"/>	$y =$ <input type="text"/>
$0.4 \times y =$ <input type="text"/>	
<input type="text"/>	