

Nome:

Turma:



1- Ligue as imagens de acordo com as mudanças de estados físicos da matéria que ocorrem nas situações abaixo:

Fusão



Sublimação



Condensação



Solidificação



Vaporização



2- Relacione (ligue) as colunas de acordo com as mudanças de estados físicos:

(A) Fusão

água vaporizando lentamente

(B) Ebulição

água fervendo

(C) Evaporação

gelo derretendo

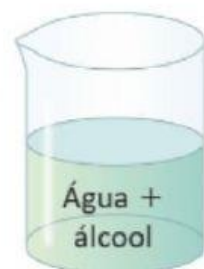
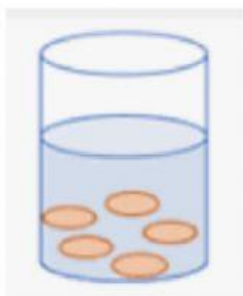
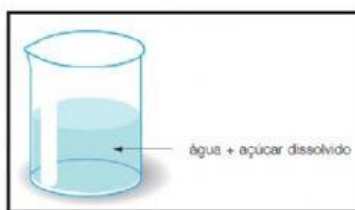
(D) Solidificação

água congelada

(E) Condensação

formação de gotículas a partir de vapor

3- Classifique as misturas abaixo em homogêneas ou heterogêneas:



4- Classifique as misturas abaixo em homogêneas ou heterogêneas:

a) água + óleo

b) água + sal + açúcar

c) água + serragem

d) álcool + água