



**PEMERINTAH KABUPATEN BADUNG**  
**DINAS PENDIDIKAN, KEMUDAAN, DAN OLAH RAGA**  
**UPT. DINAS PENDIDIKAN, KEMUDAAN, DAN OLAHRAGA**  
**KEC. KUTA SELATAN**  
**SEKOLAH DASAR NO. 8 UNGASAN**



NSS. 101220406033 NIS. 102480 NPSN. 50101677

Alamat: Jl. GWK, Br. Giri Dharma Ungasan, Kec. Kuta Selatan, Email : [sdno8ungasan@gmail.com](mailto:sdno8ungasan@gmail.com)

Satuan Pendidikan : SD No. 8 Ungasan  
Mata Pelajaran : Tema 8 Subtema 1 Matematika  
Materi : Mengenal Sudut  
Guru / Pengajar : Ni Luh Candra Putri Mahardika, S.Pd

Nama :

Kelas :

No. Absen :

**A. Simaklah video berikut, dan jawablah pertanyaan dibawah ini !**



Yang dimaksud dengan sudut adalah ...

**B. Dengarkanlah lagu dibawah ini !**

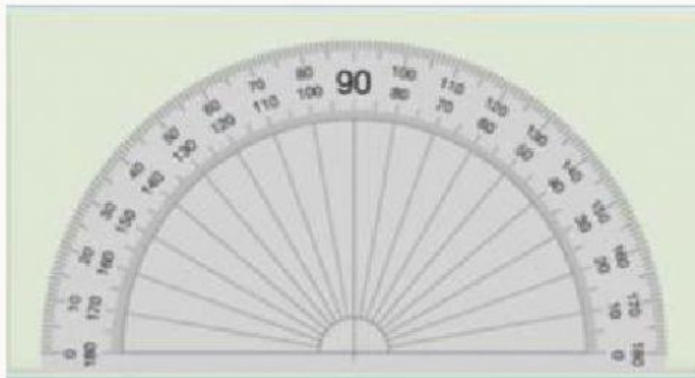


**C. Open Answer**

Salinlah lirik lagu yang sudah kamu dengar pada kolom dibawah ini!

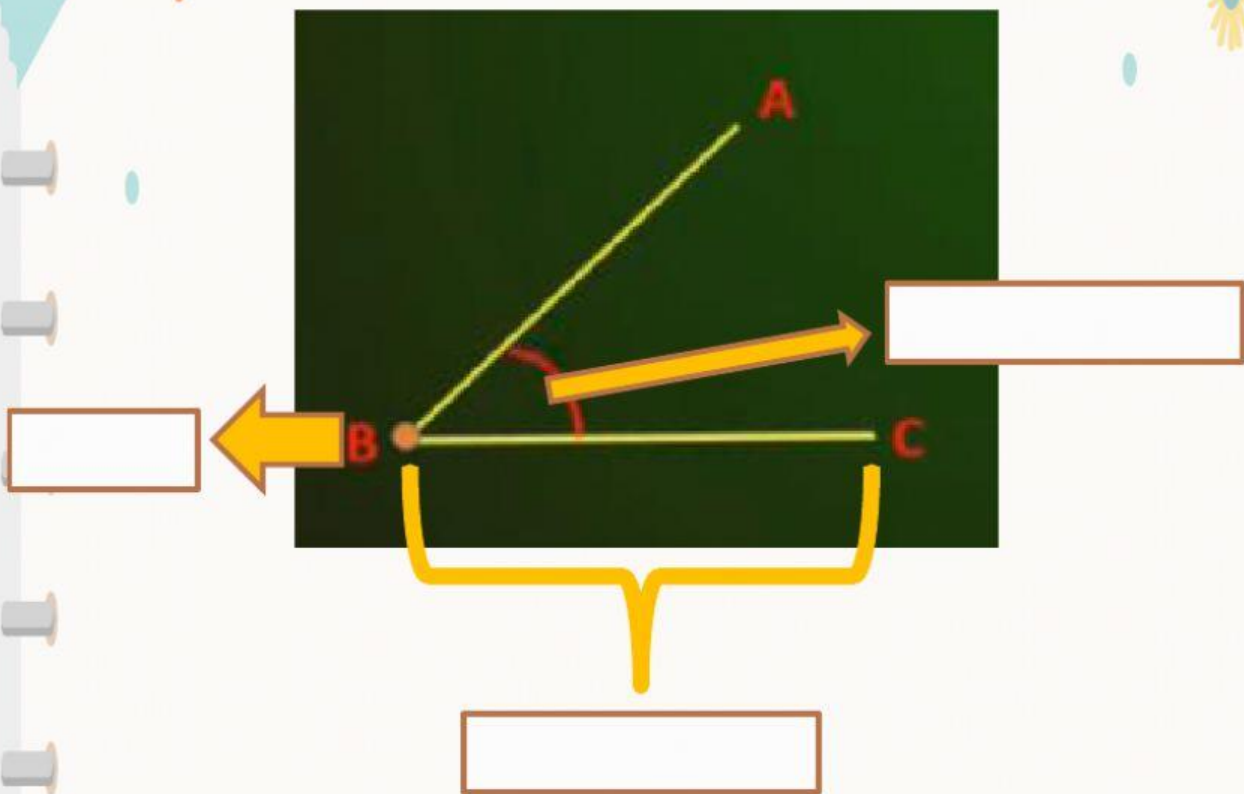
**D. Drop Down**

Nama alat dibawah ini adalah...



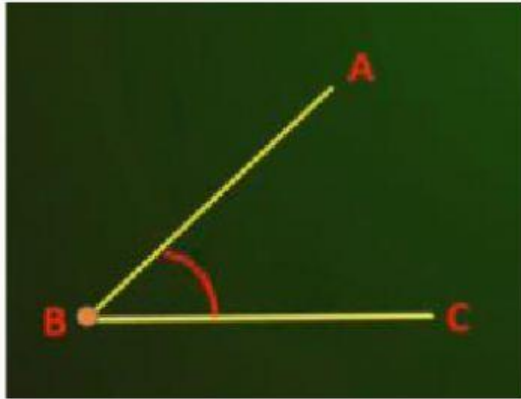
#### D. Drop Down

Tentukanlah bangun bagian pada bangun dibawah ini!



### E. Pilihan Ganda

Yang merupakan titik sudut adalah...



A. Titik A


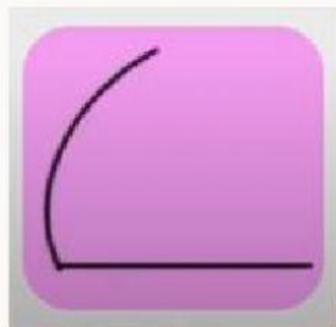
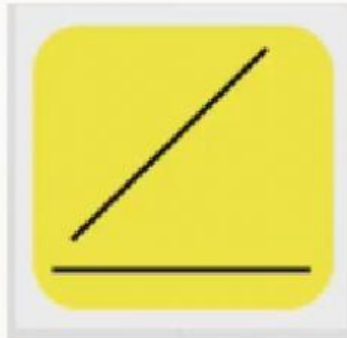
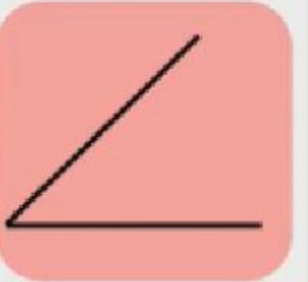
B. Titik B

C. Titik C

D. Titik B dan C

### F. Kotak Centang


Centanglah bangun dibawah ini yang merupakan sudut !





## G. Menjodohkan dengan garis

Pasangkanlah masing-masing sudut dengan benar!



A

A

Sudut Lurus



B

B

Sudut Siku-Siku



C

C

Sudut Tumpul



D

D

Sudut Lancip

## H. Drag & Drop

Klik dan geser gambar untuk menempatkan sudut sesuai dengan bangunnya !

Sudut Lancip

Sudut Tumpul

Sudut Siku-siku

Sudut Lurus

