

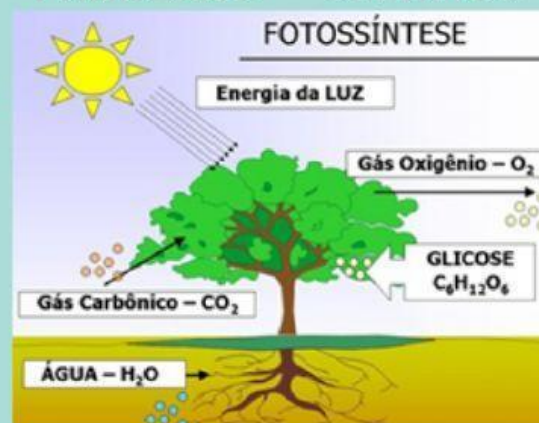
Nome: _____ - Aline Vaz



Partes das Plantas

AS PLANTAS SÃO SERES VIVOS QUE FAZEM PARTE DO REINO DOS VEGETAIS. ELAS SE DESTACAM POR PRODUZIREM SEU PRÓPRIO ALIMENTO, NECESSÁRIO PARA O SEU CRESCIMENTO E DESENVOLVIMENTO, ATRAVÉZ DE UM PROCESSO CHAMADO FOTOSSÍNTESE.

VEJA NA IMAGEM AO LADO O ESQUEMA DA FOTOSSÍNTESE E ASSISTA AO VÍDEO ABAIXO PARA SABER MAIS: →



AS PLANTAS SÃO COMPOSTAS POR PARTES IMPORTANTES. CADA PARTE DESEMPENHA UMA FUNÇÃO PARA A PLANTA, PORÉM, DEPENDENDO DA PLANTA ELA PODE OU NÃO TER UMA OU OUTRA PARTE.

AS PARTES DAS PLANTAS SÃO: RAIZ, CAULE OU TRONCO, FOLHA, FLOR, FRUTO E SEMENTE.

FUNÇÕES DAS PARTES DA PLANTA:

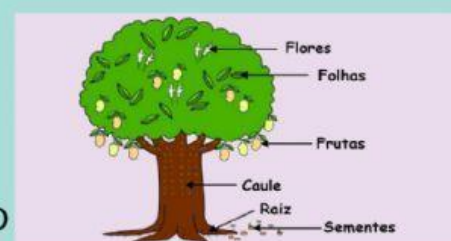
RAIZ → SERVE PARA CAPTURAR A ÁGUA E ALIMENTOS DO SOLO

CAULE → É O TRONCO, SERVE PARA SUSTENTAÇÃO DA PLANTA E COMO CAMINHO DOS NUTRIENTES PARA AS OUTRAS PARTES.

FOLHA → SERVE PARA A RESPIRAÇÃO E PARA A REALIZAÇÃO DA FOTOSSÍNTESE.

FLOR → SERVE COMO ÓRGÃO REPRODUTOR DA PLANTA. NELA ESTÁ O PÓLEN QUE SERVE PARA A FECUNDAÇÃO ENTRE AS PLANTAS.

FRUTO → ELE É RESPONSÁVEL POR GUARDAR AS SEMENTES. EXISTEM PLANTAS QUE TEM AS SEMENTES POR FORA (COMO O CAJU) E OUTRAS QUE NEM TEM SEMENTES E SE REPRODUZEM ATRAVÉS DE RAMOS (COMO A ROSEIRA).

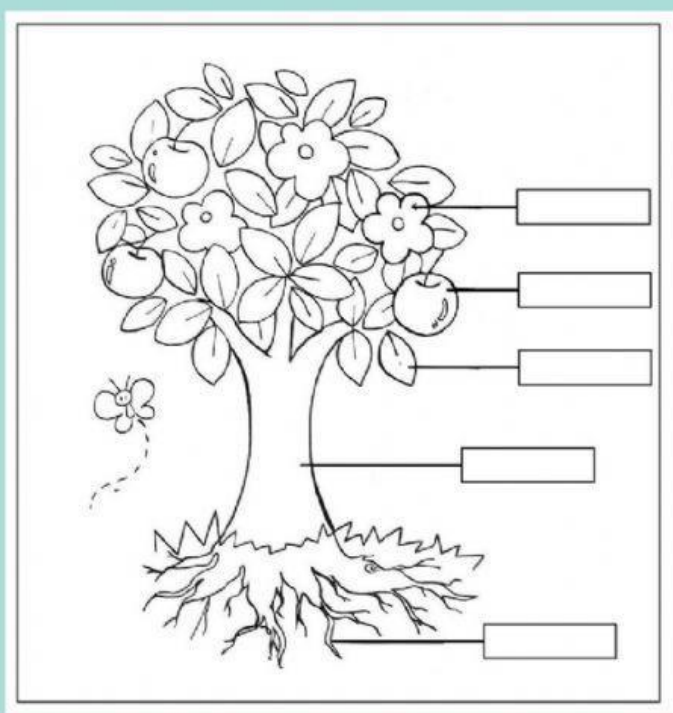


ASSISTA AOS VÍDEOS ABAIXO PARA SABER MAIS SOBRE AS PARTES DAS PLANTAS:



AGORA QUE VOCÊ JÁ APRENDEU, FAÇA AS ATIVIDADES ABAIXO:

1- ESCREVA O NOME DAS PARTES QUE COMPÕE UMA PLANTA:



2- LIGUE O DESENHO À FUNÇÃO CORRETA E ESCREVA ABAIXO O NOME DA PARTE CORRESPONDENTE:



RESPIRAÇÃO

PROTEÇÃO

FIXAÇÃO

REPRODUÇÃO

SUSTENTAÇÃO