



PROBLEMI

1 Leggi e risolvi scrivendo l'operazione.



I cani sono 3 e i gatti sono 3.
Quanti sono gli animali?

$$\underline{\quad} + \underline{\quad} = \underline{\quad}$$




Intorno al fiore ci sono 6 api.
2 volano via.
Quante api rimangono?



Ci sono 4 uccelli che volano
e 2 sul ramo.
Quanti uccelli in tutto?



6 gatti stanno dormendo.
2 si svegliano.
Quanti gatti continuano
a dormire?



Nell'acquario ci sono 5 pesci
piccoli e 3 grandi.
Quanti pesci in tutto?