

Tema 8

Subtema 3

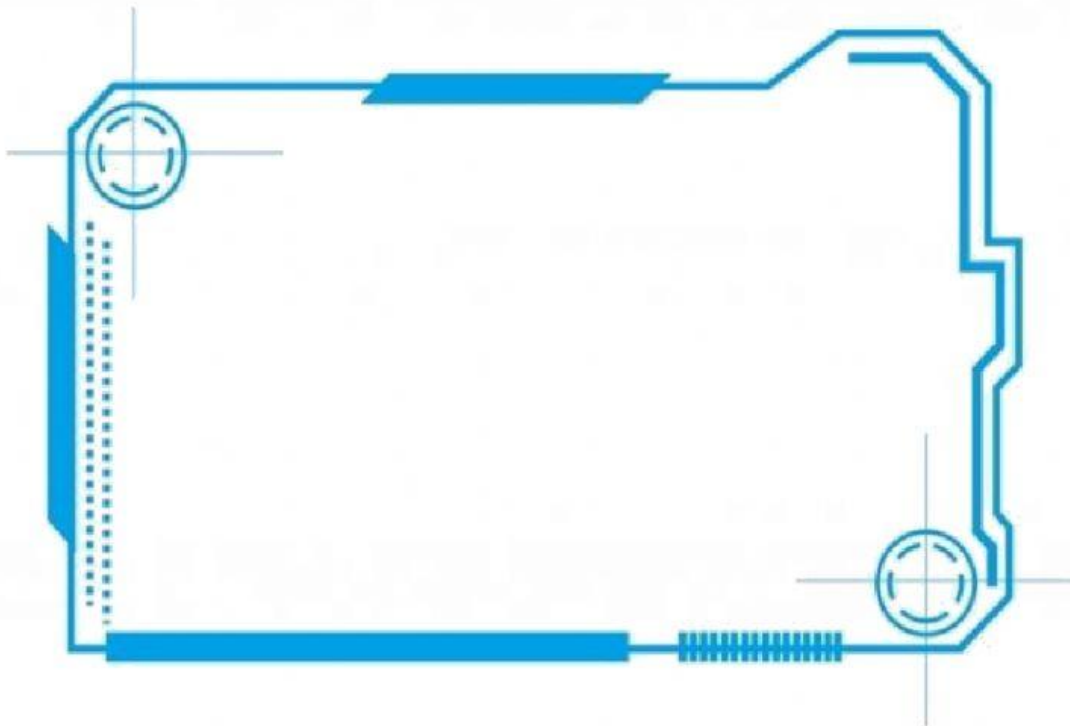
Nama :

Kelas :

No. :

A. Upaya Pelestarian Lingkungan

Perhatikan video berikut untuk menjawab soal dibawah ini!



B. Silahkan ketik jawabanmu!

1. Apa yang terjadi jika kita memcuci baju menggunakan air yang tercampur minyak?

2. Apa yang terjadi jika kita minum air yang tercemar kuman?

3. Apa yang terjadi pada ikan-ikan di sungai yang menjadi tempat pembuangan limbah cair dari industri?



C. Pilihlah jawaban yang paling tepat!

Sara pergi ke pasar dengan menggunakan angkutan umum. Disana banyak terjadi transaksi jual beli dan kegiatan ekonomi. Sara ingin membeli sepatu, dan ayahnya memberi batasan bahwa harganya tak boleh lebih dari Rp. 100.000,- rupiah. Sarah menyukai sepatu bot berwarna hitam.



Rp. 84.000

A



Rp.151.000

B



Rp. 94.000

C



Rp. 124.000

D



Rp.84.000

E




Rp. 114.000

F

Merek apakah sepatu yang dipilih Sarah?


Pilih salah satu:



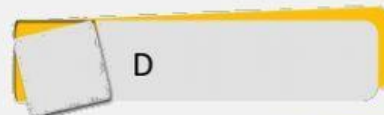
C



A




F



D



B



E

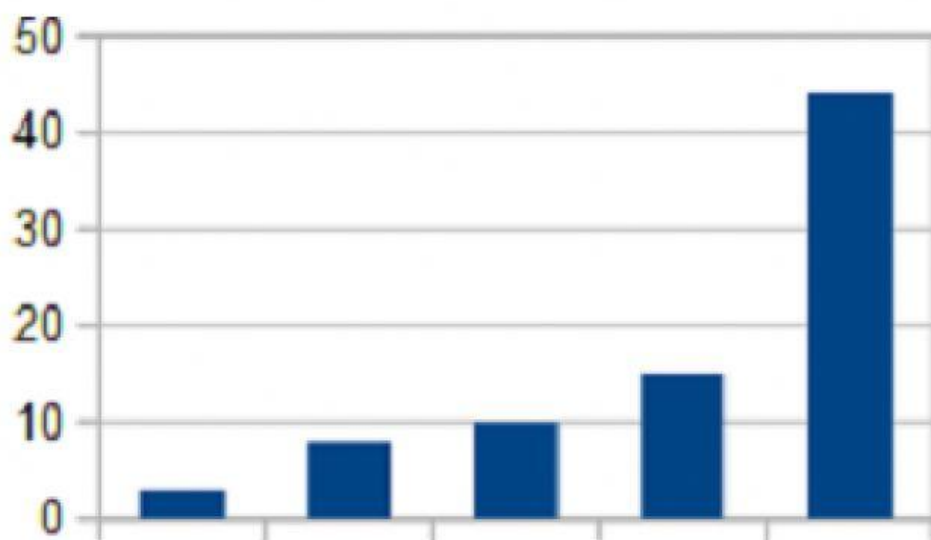
G. Jaka si berang-berang duduk di pinggir jalan menghitung mobil warna-warni yang lewat. Di akhir hari ia mencatat:

- ♣ Mobil biru ada 10 ♣ Mobil merah ada 44
- ♣ Mobil putih ada 3 ♣ Mobil hijau ada 8
- ♣ Mobil hitam ada 15

Jaka mengetikkan angka itu memakai program komputer dan hasilnya sebuah diagram batang sebagai berikut:

Tetapi sayangnya, diagram tersebut tidak menunjukkan warna mobil.

Tantangan: Mobil warna apa yang digambarkan pada diagram batang paling tengah ?



a. MERAH

b. BIRU

c. HITAM

d. PUTIH

Selamat Mengerjakan

Dibuat oleh:
Eni Arinawati, S.Pd.
SDN Kaliputih