



## AVALIAÇÃO DIAGNÓSTICA DE ENTRADA

2021

MATEMÁTICA

2º ano do Ensino Fundamental

Nome da Escola \_\_\_\_\_

Nome do Aluno \_\_\_\_\_

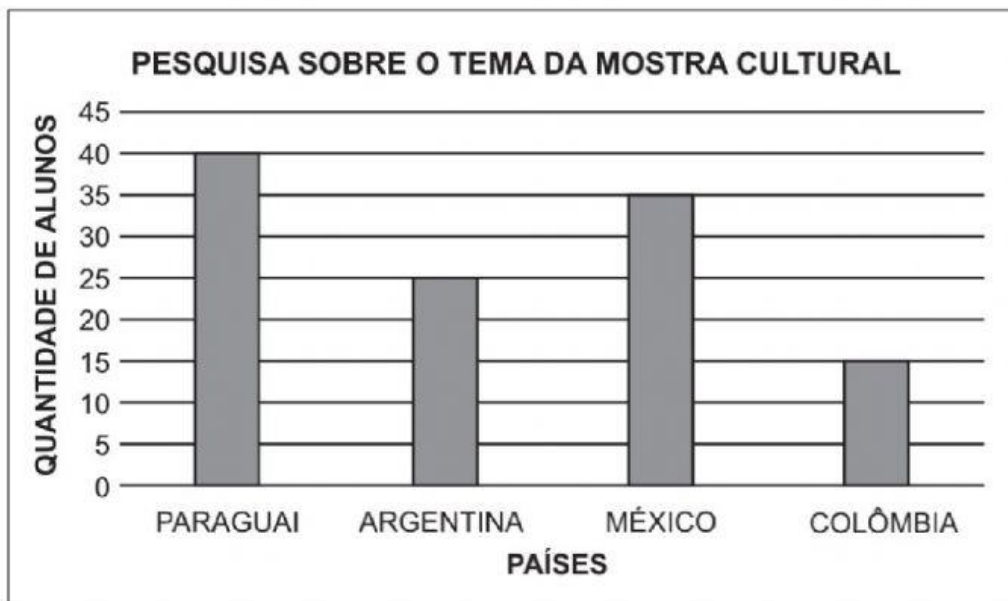
Data \_\_\_\_/\_\_\_\_/\_\_\_\_

Turma \_\_\_\_\_

UTILIZE O LECTOR RESPOSTA ABAIXO DESSA LINHA ENQUADRANDO A CÂMERA

 **LIVEWORKSHEETS**

11) (M03029817) Observe abaixo o gráfico que apresenta o resultado de uma pesquisa feita por uma escola sobre a escolha de um país para o tema da mostra cultural.



De acordo com esse gráfico, qual foi o país mais escolhido?

- ☐ A ARGENTINA.
 ☐ B COLÔMBIA.
- ☐ C MÉXICO.
 ☐ D PARAGUAI.

12) (M01042517) No sítio de Miguel tem 8 galinhas e no sítio de Pedro tem 7 galinhas. Quantas galinhas têm, ao todo, nos sítios de Miguel e Pedro?

- ☐ A 1
 ☐ B 8
- ☐ C 15
 ☐ D 87

13) (M02042217) Observe abaixo a quantia que José ganhou de seu pai.



Qual foi a quantia que José ganhou de seu pai?

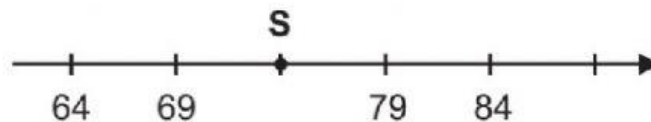
☐ A 5 REAIS.

☐ B 10 REAIS.

☐ C 20 REAIS.

☐ D 50 REAIS.

14) (M03007317) Observe a reta numérica abaixo. Ela está dividida em partes iguais.



O ponto S representa qual número nessa reta?

☐ A 70

☐ B 74

☐ C 78

☐ D 89

15) (M01003417) Observe na imagem abaixo o horário em que Amanda organizou as roupas em sua casa, ao longo do dia.

 7 HORAS: LAVOU	 9 HORAS: PENDUROU	 15 HORAS: PASSOU	 17 HORAS: DOBROU	 18 HORAS: GUARDOU
--	---	--	--	---

De acordo com essa imagem, o que Amanda fez antes das 9 horas?



16) (M010351E4) A tabela abaixo mostra a quantidade de frutas vendidas em uma feira durante uma hora.

FRUTAS VENDIDAS	QUANTIDADE
 UVA	1
 BANANA	4
 MAÇÃ	5
 ABACATE	8

De acordo com essa tabela, quantos abacates foram vendidos nessa feira em uma hora?

A 1

B 4




C 5

D 8

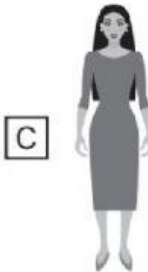
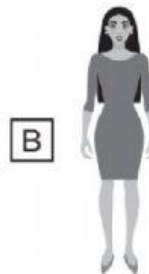
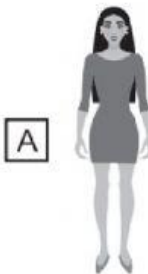
17) (M011043H6) Observe abaixo Lara e seus amigos brincando no parque.







Quem está à esquerda de Lara?



18) (M010409I7) Qual das mulheres abaixo está usando o vestido mais comprido?



19) (M020616H6) Observe abaixo a tabela com a quantidade de material escolar que Fabiana comprou.

MATERIAIS ESCOLARES COMPRADOS	
MATERIAL ESCOLAR	QUANTIDADE
TESOURA 	4
RÉGUA 	2
LÁPIS 	8
BORRACHA 	6

De acordo com essa tabela, quantas tesouras Fabiana comprou?

☐ A 2

☐ B 4

☐ C 6

☐ D 8

20) (M010005G5) Carla tinha 9 canetas coloridas e ganhou mais 4. Quantas canetas coloridas, no total, Carla tem agora?

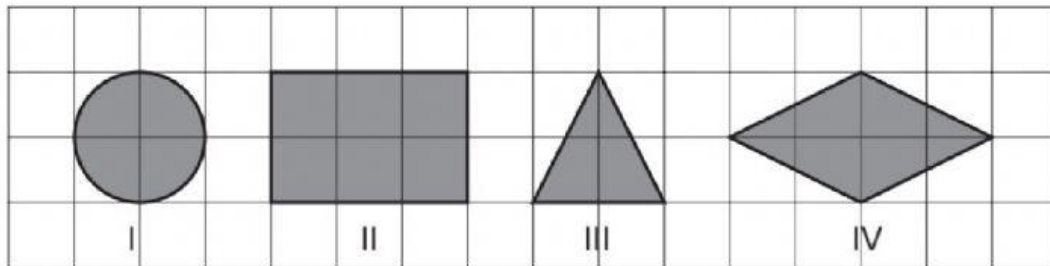
☐ A 13

☐ B 12

☐ C 9

☐ D 5

21) (M010086H6) Observe as figuras geométricas desenhadas na malha quadriculada abaixo.



Qual dessas figuras é um retângulo?

☐ A IV

☐ B III

☐ C II

☐ D I

22) (M011209H6) Observe, na imagem abaixo, os horários das ações que Marcela fez durante o dia.

7 HORAS	8 HORAS	10 HORAS	11 HORAS	12 HORAS

De acordo com essa imagem, qual é a atividade que Marcela fez depois das 11 horas?

